



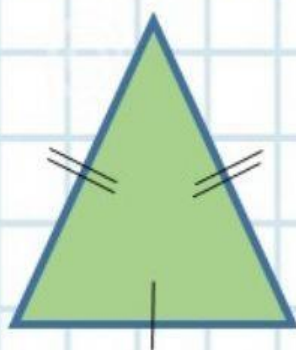
FICHA INTERACTIVA MATEMÁTICA

CLASES DE TRIÁNGULOS SEGÚN SUS ÁNGULOS

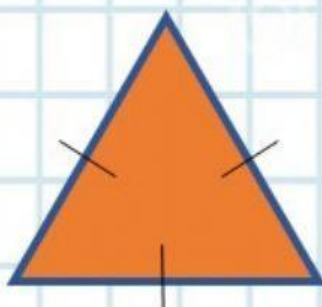
ESTUDIANTE:

GRADO/CURSO:

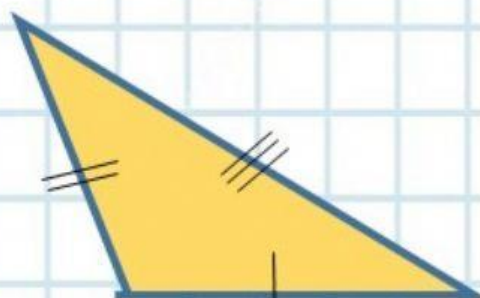
1. Identifique el nombre de cada triángulo según su característica.



2 lados iguales y 1 diferente

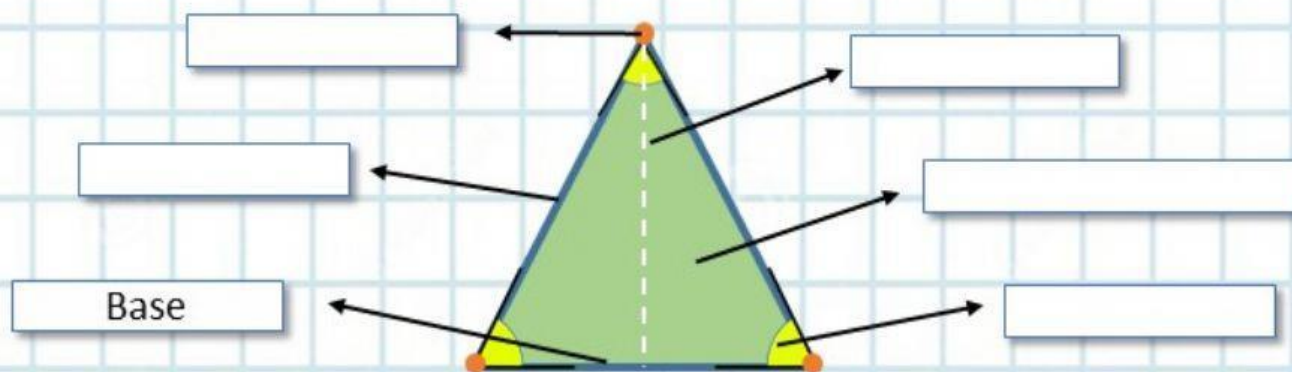


3 lados iguales

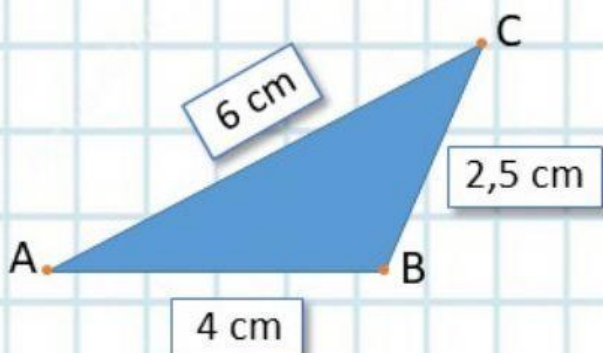


3 lados desiguales

2. Recordemos lo aprendido: Complete los elementos de un triángulo.



3. Una el nombre del triángulo con la figura analizando sus medidas.



Equilátero

Escaleno

Creado por: Dr. Manuel Fierro V.