



Estudio para el examen

Jueves 07 de abril de 2022.

Realiza los siguientes ejercicios en tu carpeta y escribe las respuestas donde corresponde.

Recuerda que estos ejercicios son de repaso para el examen de esta semana.

Si una maceta grande cuesta \$238.50 y Claudia comprará 8 macetas. ¿Cuánto dinero necesitará?

R: _____

Si Rodrigo pagó \$500 por 20 peluches iguales. ¿Cuánto cuesta cada uno?

R: _____



¿Cuánto pagaría Rodrigo por 67 peluches?

R: _____

Completa la siguiente tabla:

Cajas	Cupcakes
7	56
	120
20	
	400

Si por 16 slimes se pagó \$136. ¿Cuánto se pagará por 36 slimes?

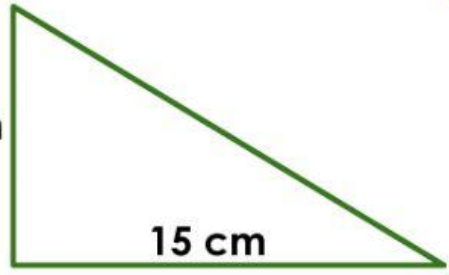
R: _____



¿Cuál es el área de la figura?

R: _____

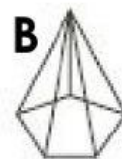
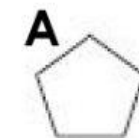
8 cm



15 cm

¿Cuál de éstos cuerpos geométricos es un prisma triangular?

R: _____



¿Cuál es el significado de la sigla Km?

R: _____



¿Cuál es la sigla de hectómetro?

R: _____

¿A cuantos cm equivalen 8 km?

R: _____ cm

¿A cuantos hm equivalen 9 cm?

R: _____ hm

¿Qué unidad es más grande, dm o dam?

R: _____

Ahora es tu turno de seguir estudiando.