

Profesora Alejandra Lagos Moreno

Evaluación – Historia, Geografía y Ciencias Sociales.
Unidad 0

Nombre del alumno/a: _____

Curso: 3° _____

Fecha: _____

Habilidades cognitivas: Extraer información de fuentes gráficas. Leer información geográfica.

Instrucciones: Lee atentamente la evaluación antes de comenzar, contesta con lápiz grafito o el que se indique y revisa tus respuestas antes de entregar.

1. Observa el plano y realiza las actividades.

Plano de una ciudad

Esto es 1 cuadra

Simbología

Bomberos	Terminal
Gimnasio	Plaza
Colegio	Carabineros
Restaurante	Hospital
Museo	Tienda
Biblioteca	

a. Encuentra un lugar que esté al norte de la plaza, uno al sur del hospital, uno al oeste y uno al este de carabineros. Completa la tabla con tus respuestas. 2 puntos cada una, 8 puntos en total.

Al norte	Al sur	Al oeste	Al este

Profesora Alejandra Lagos Moreno

b. Imagina que tus padres están en el restorán, y deben llegar al hospital. Entrégales dos instrucciones que les permitan llegar a su destino de manera diferente. Para ello, utiliza los puntos cardinales, la cantidad de cuadras que deben recorrer y lugares de referencia. (2 puntos cada una, 6 puntos en total).

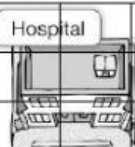



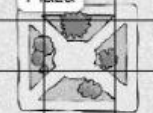




1 punto por responder correctamente.
1 punto por escribir una oración completa y con sentido.

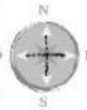
Mi primera instrucción para ir del restorán al hospital es:

Mi segunda instrucción para ir del restorán al hospital es:

Explica, ¿para qué nos sirven los puntos cardinales y los puntos de referencia?

2. Observa la siguiente cuadrícula y luego responde.

	1	2	3	4	5	6	7
A	Hospital		Bomberos			Casa naranja	
B							
C							
D	Colegio		Plaza			Casa blanca	
E							
F							
G	Almacén		Museo			Carabineros	
H							
I							



a. Escribe el nombre de los lugares que se encuentran en las siguientes coordenadas: (1 punto cada una, 4 puntos en total)

A 4 _____

G 1 _____

D 6 _____

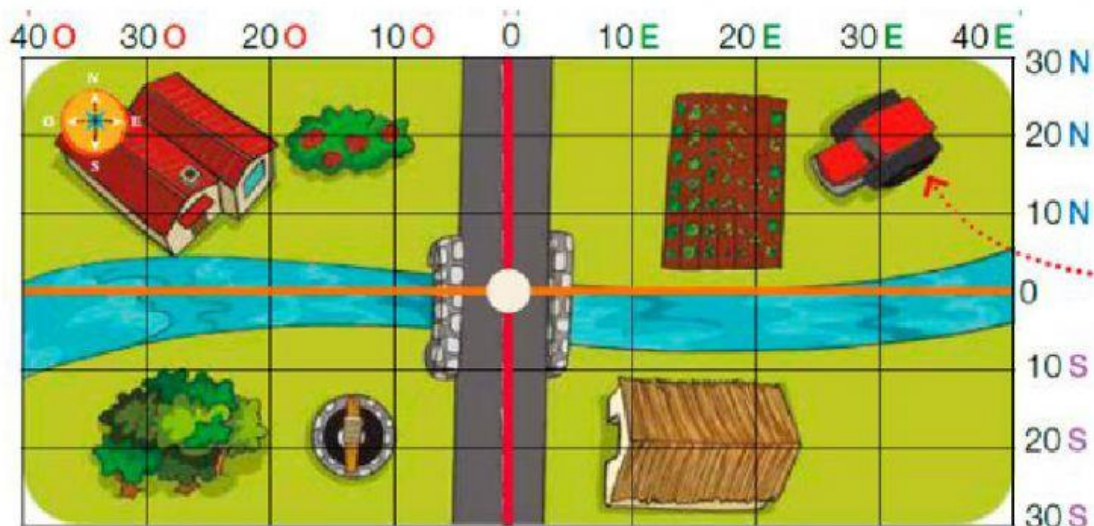
E 4 _____

Profesora Alejandra Lagos Moreno

b. Completa las siguientes oraciones escribiendo el lugar incognito usando la ubicación del punto de referencia. (1 punto cada 1, 4 puntos en total).

- El _____ se encuentra al sur de la coordenada E 1.
- La _____ se encuentra al norte de la coordenada H 4.
- La _____ se encuentra al este de la coordenada E 4.
- El _____ se encuentra al oeste de la coordenada H 6.

3. Observa el siguiente plano con su cuadrícula y luego responde



El río divide el plano en norte y sur, mientras que la carretera lo hace en oeste y este.

Mientras más nos alejamos del río o de la carretera más aumentan los números, porque estos marcan la distancia que tenemos de estas líneas de referencia.

Profesora Alejandra Lagos Moreno

a. ¿En qué coordenadas se encuentra el tractor? (1 punto)

- a) 20 sur y 30 este
- b) 20 norte y 30 este
- c) 30 norte y 20 este

b. ¿Cómo supiste dónde se encontraba? Explica los pasos que seguiste para encontrar la respuesta correcta. 5 puntos en total.

- 1 punto por explicar los pasos en orden cronológico
- 2 punto por mencionar al menos dos pasos
- 1 punto por escribir un texto con sentido y claridad
- 1 punto por respetar el uso de mayúsculas y puntos.