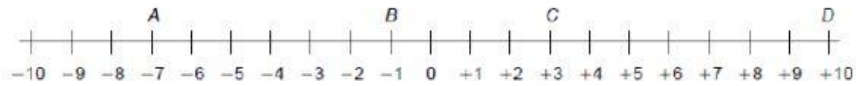


Cuadro de texto

2 Escribe el número que representa cada letra.



• A = _____

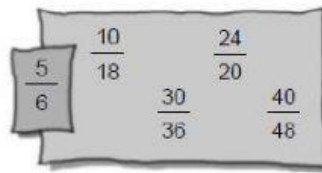
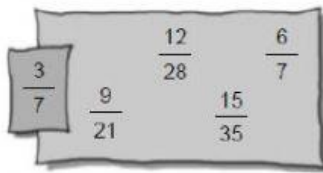
• C = _____

• B = _____

• D = _____

Selección múltiple

2 Rodea las fracciones equivalentes a la fracción dada.



Arrastrar y soltar

REPASA ESTA INFORMACIÓN. Después, corrige tus actividades.

El mínimo común múltiplo de dos o más números es el común, distinto de , de dichos números.

El máximo común divisor de dos o más números es el común de dichos números.

(m. c. d.)

(m. c. m.)

menor

mayor

múltiplo

divisor

Cuadro de opciones

2 Escribe el signo > o < según corresponda.

+4 ○ -2

-4 ○ +3

-9 ○ +1

Unir con flechas

1 Relaciona cada frase con su expresión numérica y con su resultado.

La suma de 6 y 8 multiplicada por 3	•	(12 + 21) - 18	•	13
Multiplica 4 y 7 y réstale 15	•	9 × (21 - 6)	•	15
Multiplica por 9 la diferencia de 21 y 6	•	(6 + 8) × 3	•	135
Resta 18 a la suma de 12 y 21	•	(4 × 7) - 15	•	42

Opción múltiple

2 Lee y rodea los números.

Seiscientos treinta millones noventa mil.

Sesenta y tres millones novecientos.

Seis millones noventa y tres mil.

630.900.000
630.090.000
63.000.900
63.900.000
6.093.000
6.009.300