
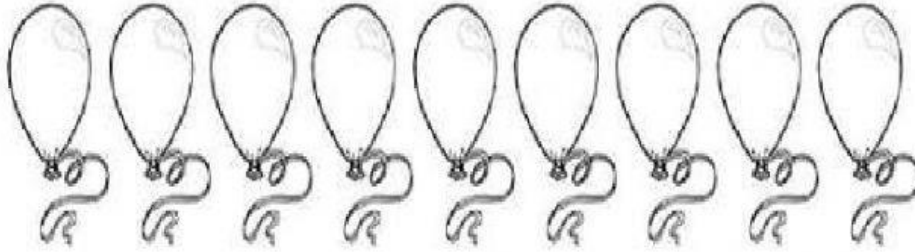




LICEO MARÍA DE LOS ÁNGELES
EVALUACIÓN DE MATEMÁTICAS- PRIMER BIMESTRE
DOCENTE: Sonia Liliana Gamarra Ubaque

NOMBRE: _____ GRADO: PRIMERO FECHA: Abril 1-2022

1. Arrastra el color según las instrucciones.



- a) El cuarto globo con morado
- b) El octavo con negro
- c) El séptimo con azul
- d) El tercero con rojo
- e) El quinto con anaranjado
- f) El sexto con amarillo
- g) El primero es celeste
- h) El segundo es rosado
- i) El noveno es verde.

2. Escribe tres objetos de tu casa, donde encuentres los números dígitos.

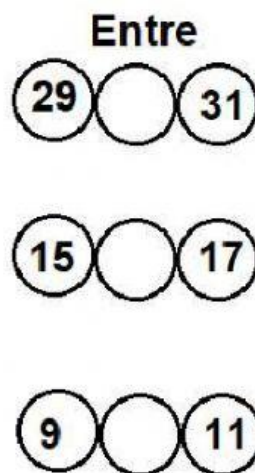


3. Escribe los números dígitos en orden descendente (de mayor a menor)

9								
---	--	--	--	--	--	--	--	--

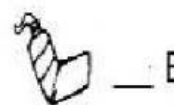
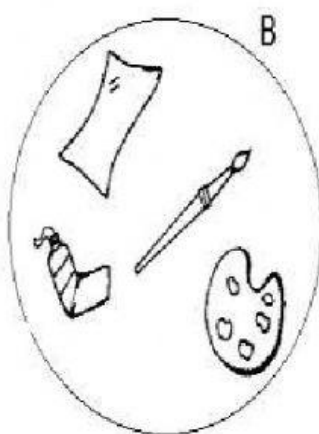
4. Escribe el signo $>$, $<$ o $=$ a, según corresponda.

5		9	21		12	7		3	14		14
---	--	---	----	--	----	---	--	---	----	--	----


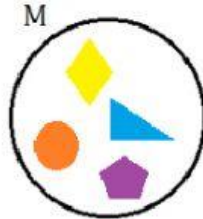
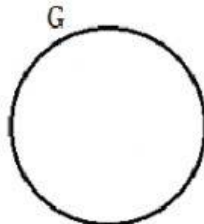
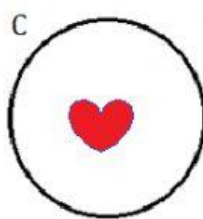
5. Escribe el número antes, después o entre, según corresponda.



6. Escribe el signo € y ¤ según corresponda.



7. Observa los conjuntos y clasifica según su número de elementos.



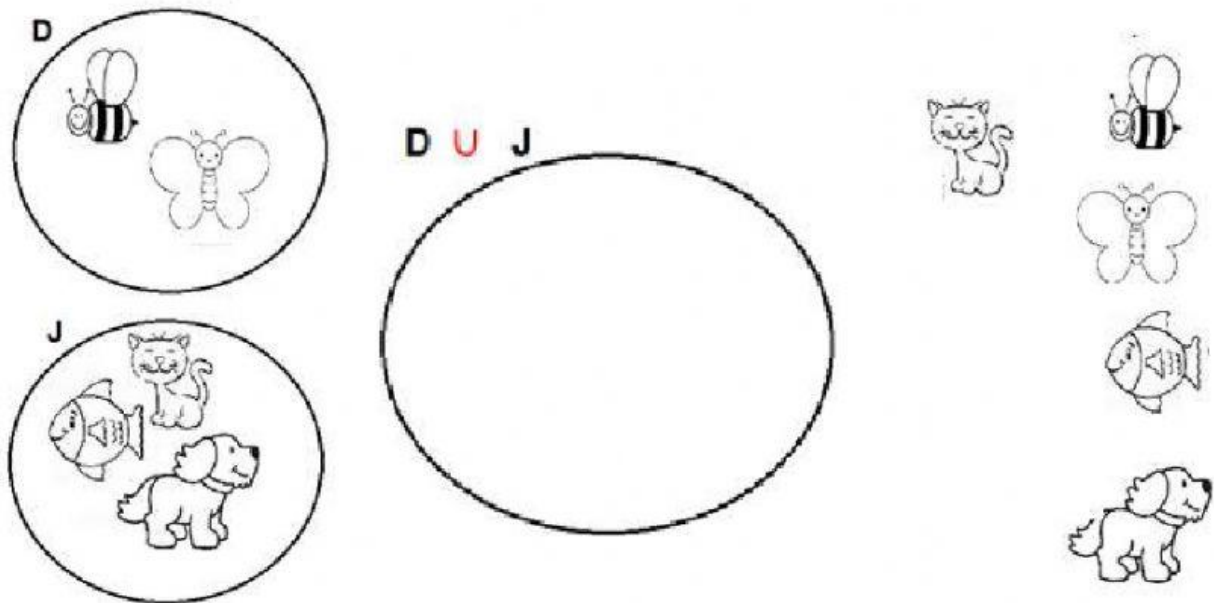
El conjunto G es un conjunto _____

El conjunto M es un conjunto _____

El conjunto C es un conjunto _____

El conjunto K es un conjunto _____

8. Realiza la unión de los siguientes conjuntos.



9. Escribe la característica que representa cada conjunto.

- **A=** [amarillo, azul, rojo]

A es un conjunto de _____

- **Z=**[a, e, i, o, u]

Z es un conjunto de _____

- **J=**[lápiz, borrador, cuaderno, regla]

J es un conjunto de _____

- **P=** [fútbol, baloncesto, natación, atletismo]

P es un conjunto de _____