



Ministero dell'Istruzione



Istituto nazionale per la valutazione
del sistema educativo di istruzione e di formazione

Rilevazione degli apprendimenti

PROVA DI MATEMATICA

Scuola Primaria

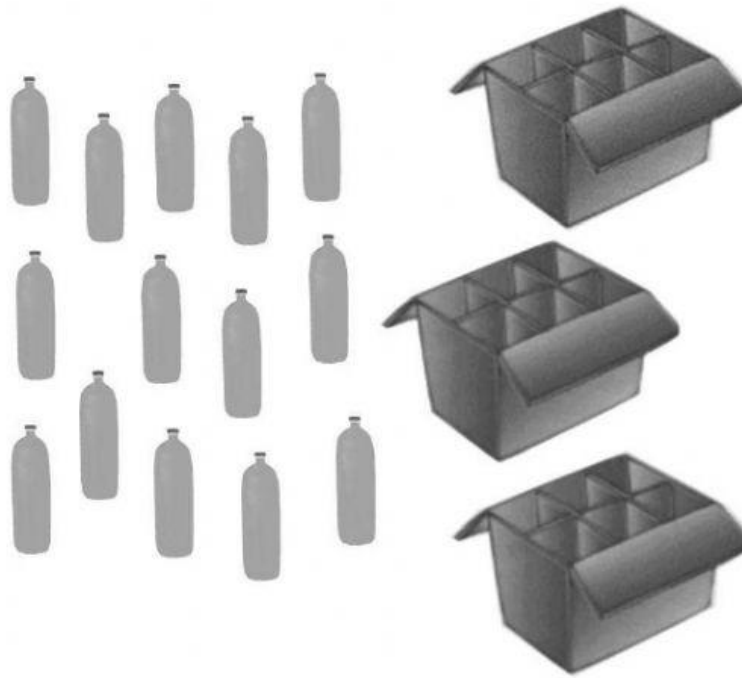
Classe Seconda

Fascicolo 1



Spazio per l'etichetta autoadesiva


D22. Osserva l'immagine.



**Giorgio vuole mettere sei bottiglie in ogni scatola.
Quante bottiglie gli mancano per riempire le tre scatole?**

- A. ☐ 18
- B. ☐ 6
- C. ☐ 4

D23. Osserva il termometro.

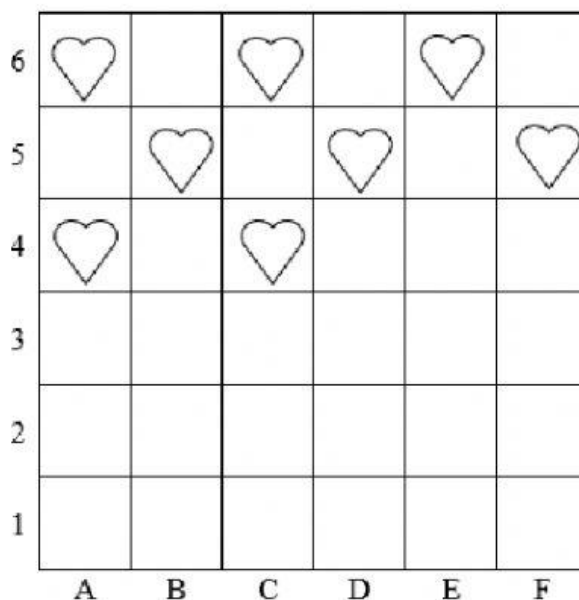


Quale temperatura segna il termometro?

- A. ☐ 20 gradi
- B. ☐ 25 gradi
- C. ☐ 30 gradi

D24. Carla disegna dei cuori nelle caselle, lasciando tra un cuore e l'altro sempre una sola casella vuota sia in orizzontale sia in verticale.


Carla non ha completato il suo disegno.



In quale delle seguenti caselle Carla non disegnerà un cuore?

- A. ☐ Nella casella (C, 2)
- B. ☐ Nella casella (D, 2)
- C. ☐ Nella casella (E, 2)

D25. Angela sta guardando un video.



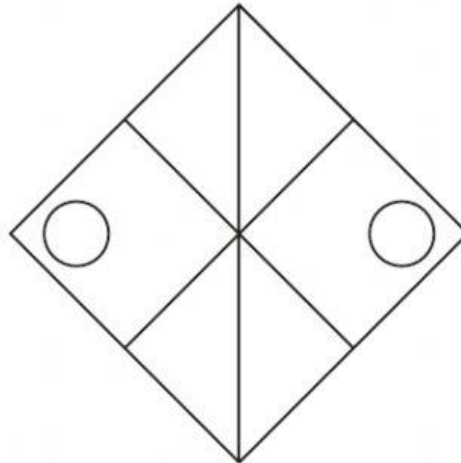
Il video completo dura 6 minuti.

Angela ha già visto 3 minuti e 10 secondi del video.

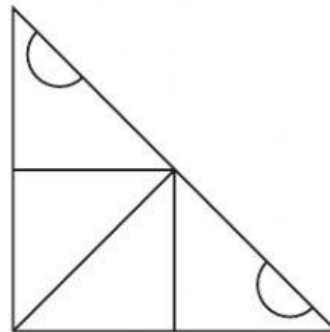
Quanto tempo manca alla fine del video?

- A. ☐ 3 minuti
- B. ☐ Più di 3 minuti
- C. ☐ Meno di 3 minuti

D26. Matteo ha disegnato questa figura.



Poi l'ha tagliata in due pezzi. Ecco un pezzo:



Qual è l'altro pezzo?

A. <input type="checkbox"/>	B. <input type="checkbox"/>	C. <input type="checkbox"/>