



Ministero dell'Istruzione



Istituto nazionale per la valutazione
del sistema educativo di istruzione e di formazione

PROVA DI MATEMATICA - Scuola Primaria - Classe Seconda - Fascicolo 1

Rilevazione degli apprendimenti

PROVA DI MATEMATICA

Scuola Primaria


Classe Seconda

Fascicolo 1



Spazio per l'etichetta autoadesiva

D9. Mauro, Francesca e Linda raccolgono questi tre legnetti.



Ciascuno di loro utilizza uno dei legnetti per misurare la lunghezza dello stesso tavolo.

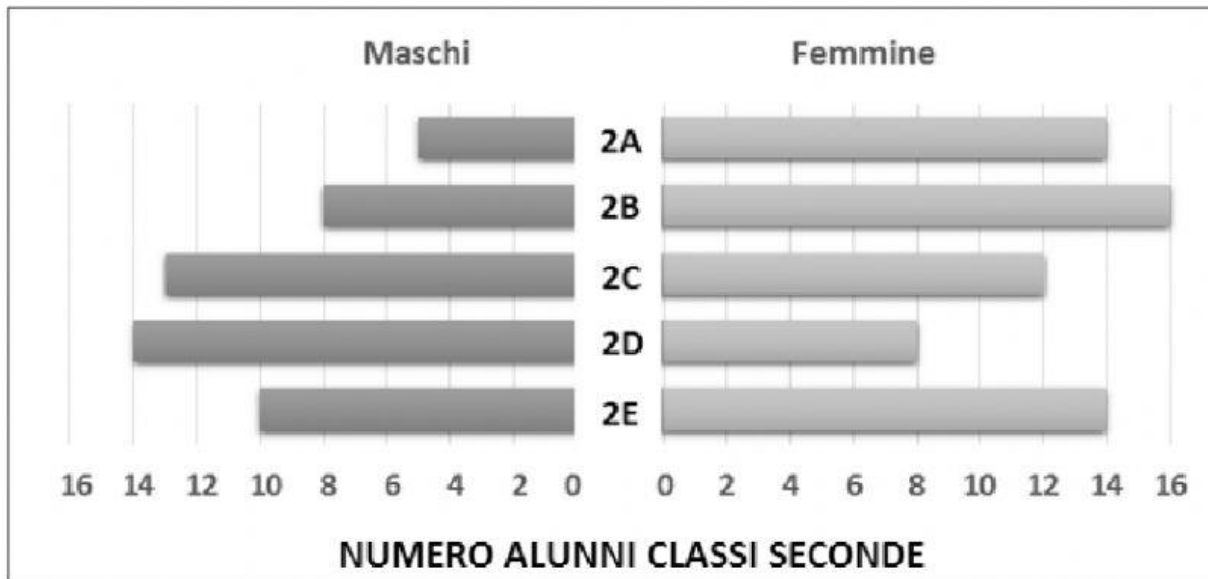
Completa le frasi.

Mauro dice: “Il tavolo misura circa 3 volte il legnetto”

Francesca dice: “Il tavolo misura circa 12 volte il legnetto”

Linda dice: “Il tavolo misura circa 6 volte il legnetto”

D16. Il grafico rappresenta il numero di alunni delle classi seconde di una scuola.



Osserva il grafico e indica per ciascuna delle seguenti affermazioni se è vera (V) o falsa (F).

	V	F
a. Nella 2C ci sono più maschi che nella 2D	<input type="checkbox"/>	<input type="checkbox"/>
b. Nella 2A ci sono 5 maschi	<input type="checkbox"/>	<input type="checkbox"/>
c. Nella 2E ci sono più maschi che femmine	<input type="checkbox"/>	<input type="checkbox"/>
d. La 2B e la 2E hanno lo stesso numero di alunni	<input type="checkbox"/>	<input type="checkbox"/>

**D17. Nino, Aldo, Luca, Giulio e Mario sono cinque amici.
Leggi ciò che dicono.**

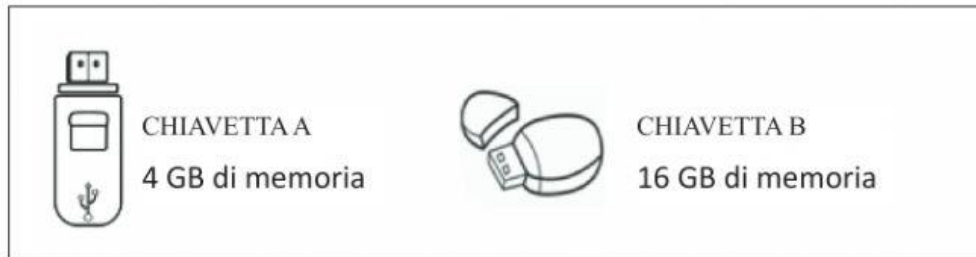


Scrivi nei cartellini i quattro nomi che mancano.

D18. Completa la tabella.
La prima riga è già stata completata.
La regola è: sottrai 9.

	- 9
20	11
16
27
100


D19. Bruno deve lavorare al computer e ha a disposizione delle chiavette come queste.



a. Completa la frase con il numero corretto.

La memoria di una chiavetta B è uguale alla memoria di chiavette A

b. Oggi Bruno ha a disposizione 5 chiavette A e 2 chiavette B.



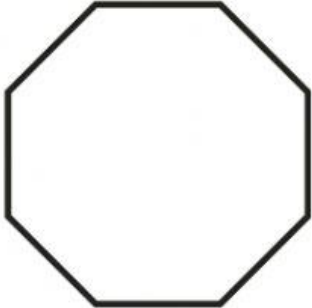

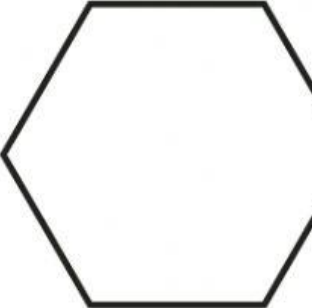
Quanti GB di memoria ha a disposizione in totale?

Risposta: GB di memoria

D20. Osserva questa scatola.



Se appoggi la scatola su un foglio e disegni il suo contorno, quale di queste figure ottieni?

		
A. <input type="checkbox"/>	B. <input type="checkbox"/>	C. <input type="checkbox"/>

D21. Tre bambine lanciano a turno un gettone che ha una faccia bianca e una faccia nera.

Ecco la situazione dopo i primi lanci:

MARINA	● ○ ● ○
ROBERTA	○ ● ● ●
CARLOTTA	● ○ ○ ○

Il gioco non è terminato. Ogni bambina deve lanciare il gettone ancora una volta.

Alla fine del gioco, chi potrebbe aver ottenuto la faccia nera 3 volte?

- A. Roberta, Marina e Carlotta
- B. Sia Roberta sia Marina
- C. Solo Roberta