

SUCESIONES ARITMÉTICAS

1. Hallar "X" en la siguiente sucesión numérica:

8 ; 9 ; 11 ; 14 ; 18 ; X

2. ¿Qué número continúa?

1 ; 4 ; 9 ; 16 ; 25 ;

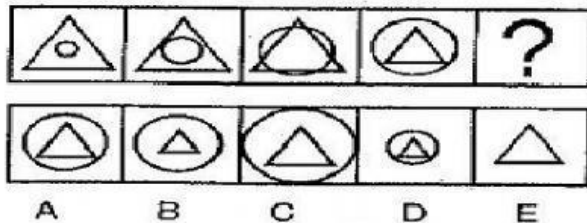
3. Halla "a"

8 ; 13 ; 23 ; 38 ; 58 ; a


4. ¿Quién sigue?

4 ; 8 ; 10 ; 20 ; 22 ; 44 ; n

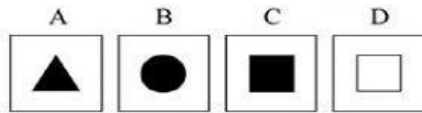

5. ¿Qué figura continúa?



6. ¿Qué figura continúa?



7. ¿Qué figura sigue en la secuencia?



8. ¿Qué letra sigue en la sucesión?

A ; E ; I ; M ; P ;

9. La siguiente letra es:

E ; M ; M ; J ;

10. ¿Qué letra falta?

L , M , M ,, V