

# LUAS BANGUN DATAR DENGAN PERSEGI SATUAN

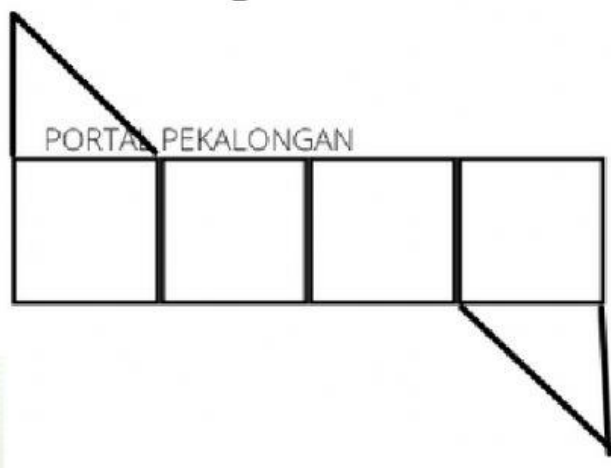
بِسْمِ اللَّهِ الرَّحْمَنِ الرَّحِيمِ

Nama Siswa:

Kelas:

**Pilihlah jawaban yang paling tepat dari pertanyaan berikut!**

1. Satu persegi satuan terdiri dari . . .
  - a. 1 segitiga satuan
  - b. 2 segitiga satuan
  - c. 3 segitiga satuan
2. Luas 1 persegi satuan sama dengan . . .
  - a. luas dua segitiga satuan
  - b. luas tiga segitiga satuan
  - c. luas satu segitiga satuan
3. Perhatikan gambar di bawah ini!

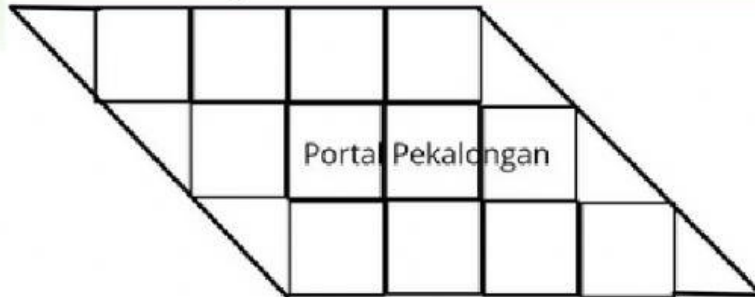




Luas persegi pada gambar di atas adalah . . .

- a. 4 satuan persegi
- b. 5 satuan persegi
- c. 6 satuan persegi

4. Perhatikan gambar berikut!



Luas jajar genjang pada gambar di atas adalah . . .

- a. 13 satuan persegi
- b. 14 satuan persegi
- c. 15 satuan persegi

5. Pada gambar jajar genjang di soal nomor 4, bangun **segitiga** ada . . .

- a. 4 satuan segitiga
- b. 6 satuan segitiga
- c. 8 satuan segitiga

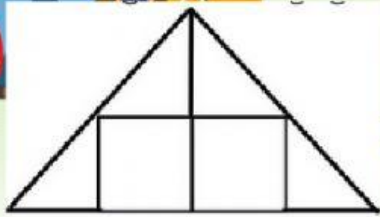
6. Pada gambar jajar genjang di soal nomor 4 **persegi yang dibangun dari segitiga** ada . . .

- a. 3 satuan persegi
- b. 4 satuan persegi
- c. 5 satuan persegi





7. Perhatikan gambar segitiga di bawah ini!



Satuan persegi luas segitiga di atas adalah . . .

- a. 4 satuan persegi
- b. 5 satuan persegi
- c. 6 satuan persegi

8. Pada gambar segitiga di soal nomor 7, segitiga satuannya ada . . .

- a. 4 satuan segitiga
- b. 6 satuan segitiga
- c. 8 satuan segitiga

الْحَمْدُ لِلَّهِ رَبِّ الْعَالَمِينَ



