

# TUTTO



# INVALSI

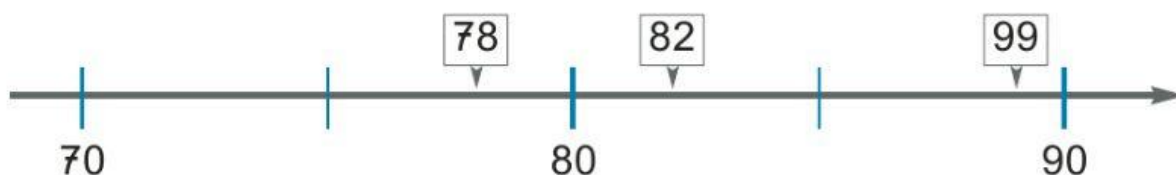
**VERIFICARE LE COMPETENZE**

**PROVA 3A: I NUMERI**



# NUMERI

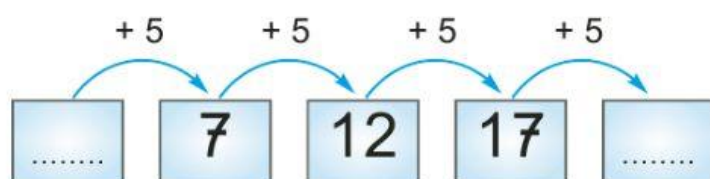
1. Osserva questa linea dei numeri:



Uno dei numeri nei riquadri è nella posizione sbagliata. Quale?

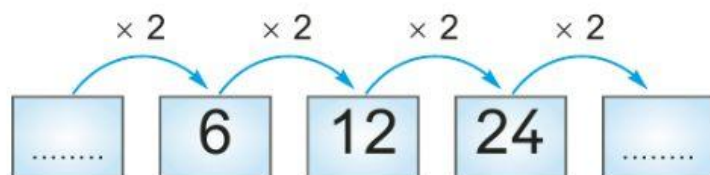
- A. ☐ 78  
B. ☐ 82  
C. ☐ 99

2. Quali numeri mancano alla seguente successione?



- a. Primo numero: .....  
b. Ultimo numero: .....

3. Quali numeri mancano alla seguente successione?



- a. Primo numero: .....  
b. Ultimo numero: .....

4. Osserva questa linea dei numeri:

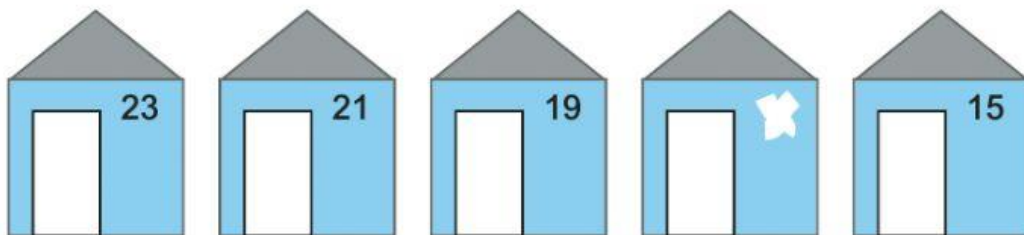


a. Quale numero scriveresti nel posto indicato dalla freccia?

- A. ☐ 3
- B. ☐ 40
- C. ☐ 30

b. Scrivi il numero 70 al posto giusto sulla linea dei numeri di sopra.

5. Chiara abita nella casetta con il numero cancellato.



Scopri qual è.

- A. ☐ 16
- B. ☐ 17
- C. ☐ 20

6. Quale numero corrisponde a 3 decine e 9 unità?

- A. ☐ 30
  - B. ☐ 93
  - C. ☐ 39
- 

7. Quale numero corrisponde a 3 unità e 1 centinaio?

- A. ☐ 31
  - B. ☐ 103
  - C. ☐ 301
- 

8. Quale numero corrisponde a 2 decine e 15 unità?

- A. ☐ 25
  - B. ☐ 35
  - C. ☐ 215
- 

9. Dal numero 135 toglì 3 decine. Quale numero ottieni?

- A. ☐ 105
- B. ☐ 15
- C. ☐ 132



10. In quale gruppo i numeri sono stati scritti in ordine crescente (cioè dal più piccolo al più grande)?

A. ☐ 31 27 13 8 4

B. ☐ 4 8 31 27 13

C. ☐ 4 8 13 27 31

11. Quale tra i seguenti numeri è il maggiore?

A. ☐ novantanove

B. ☐ centouno

C. ☐ settantaquattro

12. Dove puoi leggere «105 è maggiore di 95»?

A. ☐  $105 > 95$

B. ☐  $105 = 95$

C. ☐  $105 < 95$

13. Quale dei seguenti confronti è sbagliato?

A. ☐  $83 > 73$

B. ☐  $41 = 40$

C. ☐  $89 < 98$