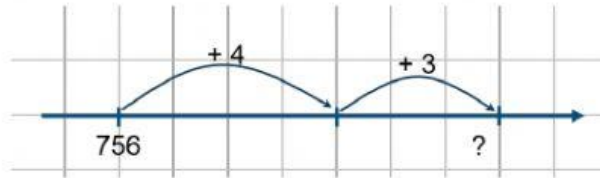


## PHÉP CỘNG TRONG PHẠM VI 1000 (có nhớ)

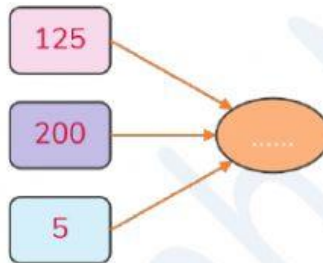
### BÀI TẬP TỰ LUYỆN

1. Kết quả của phép tính  $756 + 7$  là: .....



2.  $278 + 56 = \dots\dots\dots$

3. Viết số thích hợp đặt vào ô trống.



4. Tổng của  $50, 7$  và  $600$  là: .....

5. Điền dấu thích hợp vào chỗ chấm:  $500 + 50 + 9 \dots\dots 600$ .

6. Sao biển che số nào ?

$$300 + \text{star} = 900$$

A. 400.

B. 500.

C. 600.

D. 700.

7. Lin cao 145 cm, Bin cao hơn Lin 17 cm.

Chiều cao của Bin là: .....

8. Tàu thứ nhất chở 145 kiện hàng. Tàu thứ hai chở 256 kiện hàng.

Cả 2 tàu chở số kiện hàng là: .....



9. Tòa nhà S1 cao 129 m. Tòa nhà S2 cao hơn tòa S1 là 48 m.

Tòa nhà S2 cao hơn tòa S1 bao nhiêu mét ?

- A. 167 m.                      B. 162 m.                      C. 177 m.                      D. 180 m.

10. Hai số có tổng bằng 489 đơn vị. Nếu tăng số hạng thứ nhất lên 172 đơn vị, số hạng thứ hai lên 75 đơn vị thì tổng mới là: .....

**Phần tự luận**

1. Đếm cách đều:

a) 975, 950, 925, 900, ....., ....., ....., ....., .....

b) 135, 170, 205, 240, ....., ....., ....., ....., .....

c) 275, 350, 425, 500, ....., ....., ....., ....., .....

2. Tính.

$$\begin{array}{r} 256 \\ + 443 \\ \hline \dots \end{array}$$

$$\begin{array}{r} 358 \\ + 18 \\ \hline \dots \end{array}$$

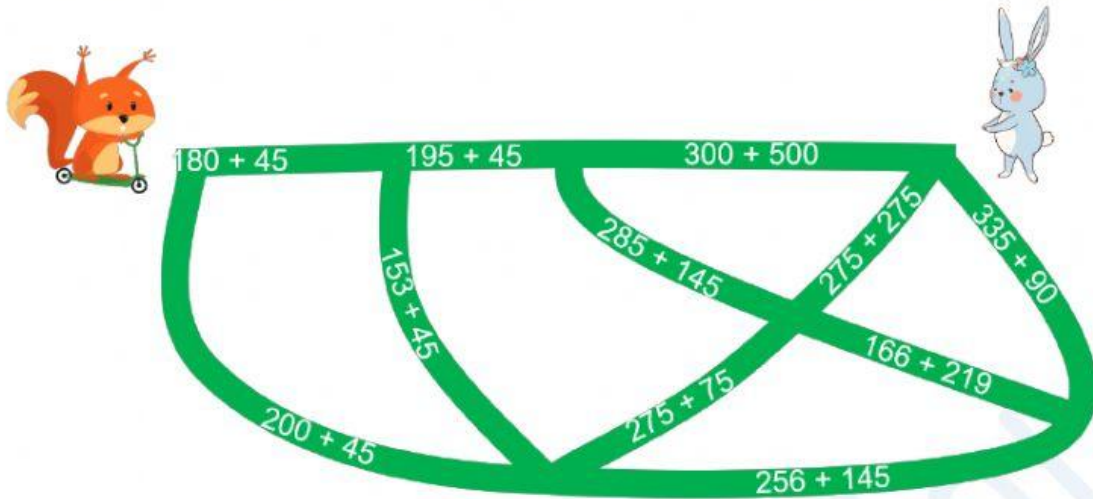
$$\begin{array}{r} 191 \\ + 567 \\ \hline \dots \end{array}$$

$$\begin{array}{r} 123 \\ + 859 \\ \hline \dots \end{array}$$

3. Tìm kết quả của các phép tính trên ấm trà và nối với cốc trà ghi kết quả đúng.



4. Sóc đã đi qua các con đường có kết quả theo thứ tự sau: 245, 350, 385, 425 để đến được nhà Thỏ.



Tìm đường Sóc đã đi.

5. Hải đăng Cô Tô được xây dựng từ cuối thế kỉ 19, có chiều cao 118 m so với mực nước biển. Hải đăng Vũng Tàu cao hơn hải đăng Cô Tô 52 m. Tính chiều cao của hải đăng Vũng Tàu so với mực nước biển.

.....

.....

.....

