

## LKPD 19

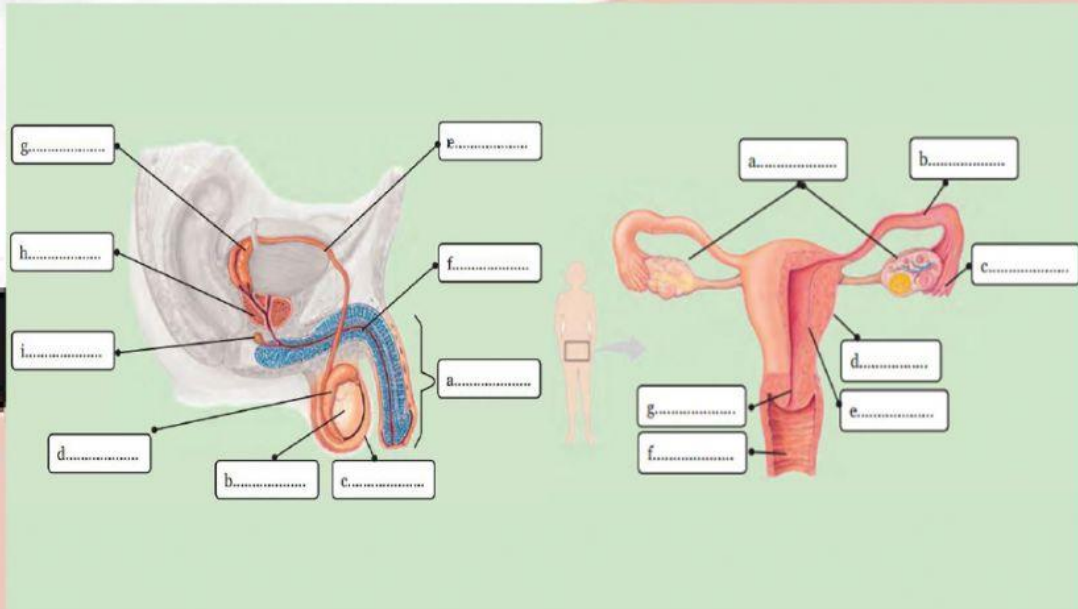
### SISTEM REPRODUKSI PADA MANUSIA

NAMA : \_\_\_\_\_

KELAS : \_\_\_\_\_

#### KERJAKAN SOAL BERIKUT!

1. Lengkapi bagian organ reproduksi pada pria dan wanita berikut!

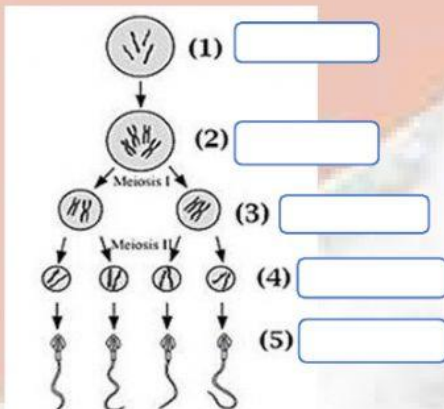


2. Tariklah garis antara organ reproduksi dengan fungsinya yang sesuai!

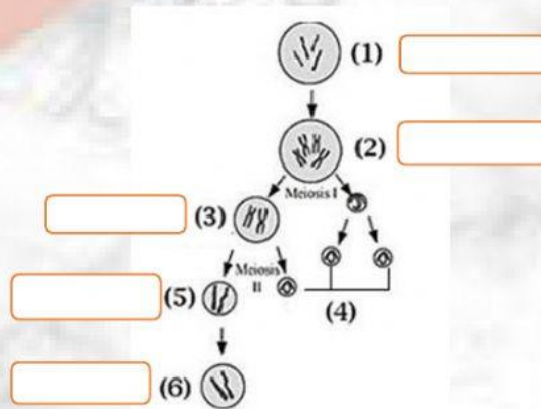
Organ Reproduksi	Fungsi
Vas deferens ★	★ Saluran tempat Bergeraknya sperma dari epididimis ke kantung semen (vesikula seminalis)
Kelenjar prostat ★	★ Saluran kelahiran yang dilalui bayi saat lahir juga berfungsi sebagai tempat kopulasi
Testis ★	★ Saluran reproduksi wanita yang berfungsi sebagai jalur sel telur menuju uterus (rahim)
Vagina ★	★ Penghasil getah kelamin bersifat encer, mengandung enzim antikoagulan, penyuplai nutrisi, dan berasa agak asam
Uterus/Rahim ★	★ Penghasil sperma dan hormon kelamin yang pembentukannya terjadi di dalam tubulus seminiferus
Oviduk/Tuba Fallopi ★	★ Tempat pertumbuhan dan perkembangan janin

3. Lengkapi bagan Spermatogenesis dan Oogenesis berikut!

#### a. Bagan Spermatogenesis



#### b. Bagan Oogenesis



**PILIH LAH SATU JAWABAN YANG BENAR!**

4. Pada pria terdapat alat-alat reproduksi sebagai berikut:

1. Vas deferens 4. Epididimis
2. Testis 5. Penis
3. Uretra

Jalannya sperma dari mulai di bentuk sampai di keluarkan dari tubuh (ejakulasi) adalah...

- A. 1 - 2 - 3 - 4 - 5
- B. 2 - 4 - 1 - 3 - 5
- C. 1 - 4 - 2 - 3 - 5
- D. 4 - 2 - 1 - 3 - 5
- E. 2 - 1 - 4 - 3 - 5

5. Saluran reproduksi internal pada laki-laki yang berfungsi untuk pemasakan sperma adalah.

- A. Epidimis
- B. Kelenjar prostat
- C. Tubulus seminiferus
- D. Vas deferens
- E. Vesicular seminalis

6. Alat reproduksi wanita terdiri atas:

- 1). Vagina 3). Tuba fallopi
- 2). Ovarium 4). Uterus

Jalannya sel telur sejak di bentuk sampai menjadi embrio secara berurutan di mulai dari..

- A. 2, 3, 4
- B. 2, 1, 4
- C. 2, 4, 3
- D. 3, 1, 4
- E. 1, 2, 4

7. Keadaan di mana jaringan endometrium terdapat di luar uterus yaitu dapat tumbuh disekitar ovarium,oviduk atau jauh di luar uterus disebut.

- A. Endometriosis
- B. Kanker ovarium
- C. Infeksi vagina
- D. Kanker serviks
- E. Gangguan Menstruasi

8. Seorang wanita dewasa melapor kepada seorang dokter bahwa suaminya mengidap penyakit kelamin. Dia menceritakan bahwa selain penyakit HIV/AIDS, suaminya ternyata juga mengidap penyakit dimana dibagian-bagian organ kelaminnya terdapat benjolan-benjolan yang merah dan membengkak, dan terkadang pecah dengan sendirinya. Indikasi lain memperlihatkan bahwa suaminya sering kencing nanah. Dari cerita laporan diatas dapat disimpulkan bahwa seorang laki-laki (suami) tersebut menderita penyakit kelamin yaitu.

- A. Sifilis
- B. Gronuloma inguinale
- C. Herpes simplex
- D. Uleus
- E. Gonorrhoe

9. Gangguan yang terjadi pada sistem reproduksi pria yang disebabkan oleh virus herpes ialah..

- A. Prostatitis
- B. Uretritis
- C. Epididimis
- D. Orkitis
- E. Hipogonadisme

10. Penyakit pada sistem reproduksi yang disebabkan virus adalah

- A. Sifilis
- B. Gonore
- C. AIDS
- D. Herpes genetalis
- E. Herpes simplex

Jika selesai klik **"FINISH"** ... Isi nama lengkap dan Kelas

Kirim jawaban ke email [leliyulia78@gmail.com](mailto:leliyulia78@gmail.com)