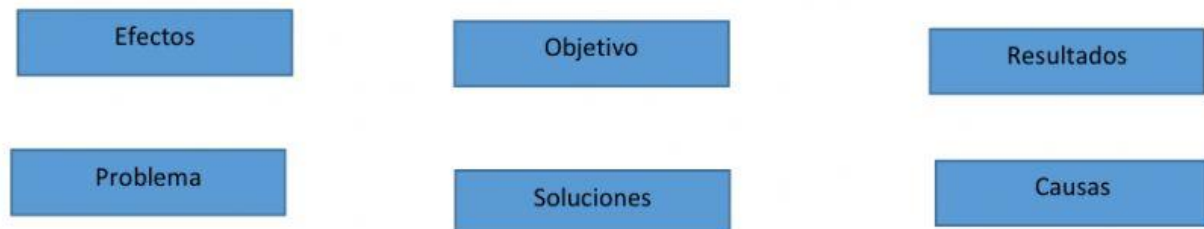





Tercera actividad de zona
Valor: 10 pts.

Actividad A


Instrucciones: Complete la estructura de un árbol de problemas y objetivos.



Árbol de problemas



Árbol de objetivos



Actividad B

Instrucciones: Lea los enunciados y seleccione la respuesta correcta.

1. Un proyecto comunitario tiene como base.

a) La participación	b) La organización	c) Las respuestas a y b son correctas.
---------------------	--------------------	--

2. Para realizar el diagnóstico de un proyecto comunitario necesitamos.

a) Un árbol de problemas	b) Un árbol de objetivos	c) Ambos árboles son necesarios.
--------------------------	--------------------------	----------------------------------

3. Debe ser concreto y corresponder con la propuesta aprobada en la Asamblea Comunitaria.

a) Objetivo general	b) Nombre del proyecto	c) Problema central
---------------------	------------------------	---------------------

4. Es lo que deseamos lograr, es decir la meta a alcanzar.

a) Población protagonista	b) Objetivo general	c) Cronograma de actividades.
---------------------------	---------------------	-------------------------------

5. Nos permite describir las acciones necesarias para alcanzar el objetivo.

a) Proyecto comunitario	b) Objetivos específicos	c) Diagnóstico de un proyecto
-------------------------	--------------------------	-------------------------------