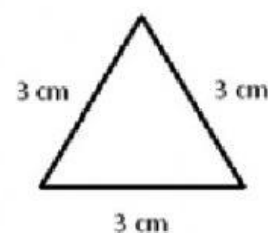
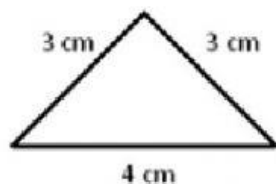
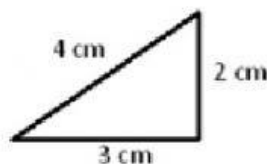
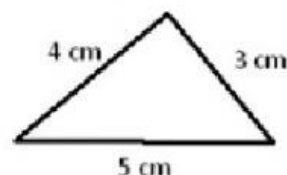


1 – Observe os triângulos a seguir e classifique-os em isósceles – equilátero - escaleno







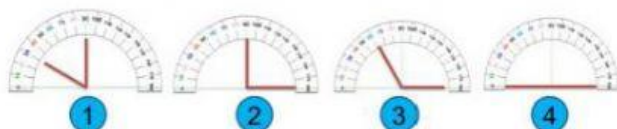



2 - Complete as frases abaixo com as palavras do quadro.

EQUILÁTERO – RETÂNGULO – ESCALENO – OBTUSÂNGULO – ACUTÂNGULO – ISÓSCELES

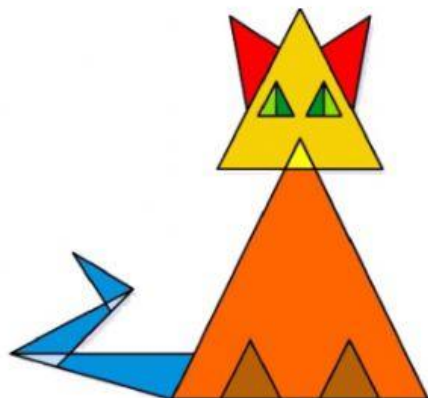
- a) Um triângulo \_\_\_\_\_ tem dois de seus lados com medidas iguais.  
 b) Um triângulo \_\_\_\_\_ tem os três lados com a mesma medida.  
 c) Um triângulo que tem um ângulo reto é chamado de triângulo \_\_\_\_\_.  
 d) Um triângulo que tem todos os ângulos agudos é chamado de triângulo \_\_\_\_\_.  
 e) Um triângulo \_\_\_\_\_ tem os três lados com medidas diferentes.  
 f) Um triângulo que tem um ângulo obtuso é chamado de triângulo \_\_\_\_\_.

3 – Qual dos transferidores abaixo está marcando um ângulo reto?



RESPOSTA

4 – Desafio! Quantos triângulos têm na figura abaixo?



RESPOSTA

Imagens disponíveis em:

Exercício 1 - <https://espacoeducar18.blogspot.com/2020/07/atividade-triangulo-equilatero.html>. Acesso em 1º/04/2022

Exercício 3 - <https://www.tudosaladeaula.com/2021/04/quiz-matematica-triangulos-quadrilateros-4ano-5ano.html>. Acesso em 1º/04/2022

Exercício 4 - <https://www.matematicagenial.com/2019/10/voce-sabe-quantos-triangulos-este-gato-tem.html>. Acesso em 1º/04/2022