

**Conceptos**

Análisis de cantidades.

1.-  $\underline{8}$  531 \_\_\_\_\_

2.- 5u 7um 2d 1c \_\_\_\_\_

3.- 5um 3u 9c 2d \_\_\_\_\_

4.- ¿Cuántas hay? 5 512

d= \_\_\_\_\_ um= \_\_\_\_\_

**Problemas**5.- Ana comió  $\frac{3}{6}$  de queso y yo  $\frac{5}{6}$ . ¿Cuánto comimos entre las dos?

Operación

Resultado

6.- Tengo  $\frac{9}{8}$  de naranja y mi hermano se comió  $\frac{4}{8}$ . ¿Cuánto sobró?

Operación

Resultado

DESAFIO 25

## ADIVINANZAS GEOMÉTRICAS

Une cada figura geométrica con su descripción.






Soy una figura de 5 lados

Soy una sola línea curva

Tengo 4 lados, dos cortos y dos largos

Tengo 3 lados iguales

Soy una figura de 4 lados igualitos

Anota el nombre de los ángulos.

