

FUNCIONES

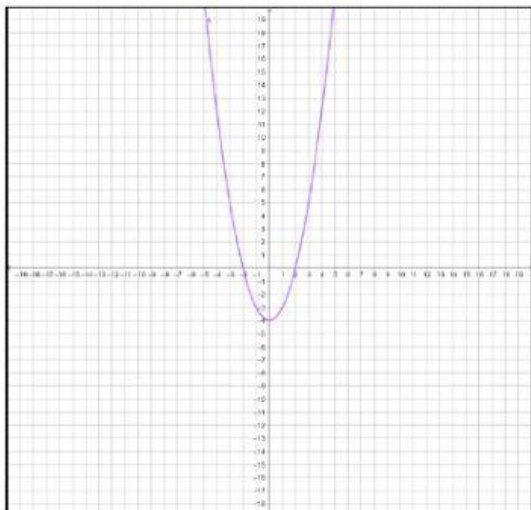
Funciones afines

Une mediante flechas

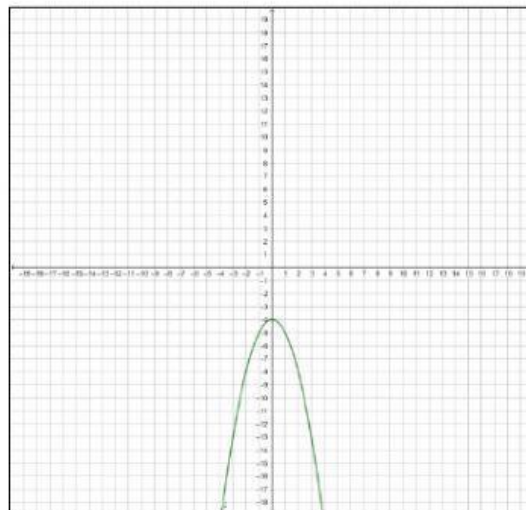
Creciente Pasa por (0,2)	Decreciente Pasa por (0,-2)	Creciente Pasa por (0,-2)	Decreciente Pasa por (0,2)
$f(x)=3x+2$	$f(x)=-3x-2$	$f(x)=-3x+2$	$f(x)=3x-2$

Funciones cuadráticas

Arrastra la función a la gráfica correspondiente:



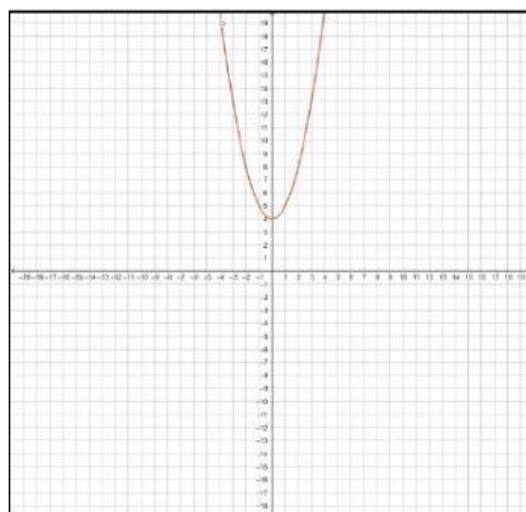
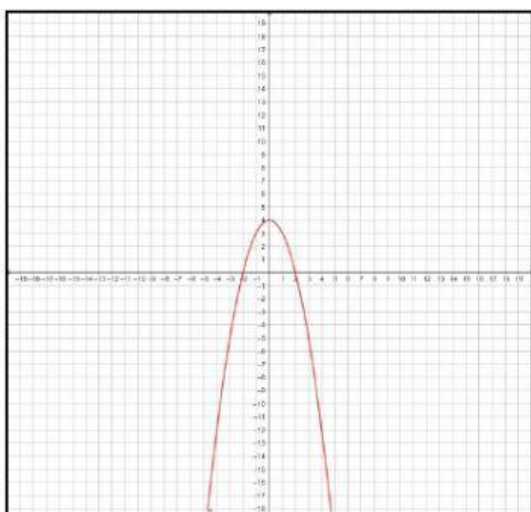
$$f(x) = x^2 - 4$$



$$h(x) = x^2 + 4$$

$$g(x) = -x^2 + 4$$

$$i(x) = -x^2 - 4$$



Funciones de proporcionalidad inversa

Marca la opción correcta:

