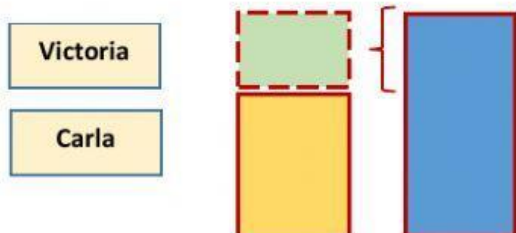




Resolvemos problemas de comparación 3, 4, 5 y 6

Lee los siguientes problemas y completa los datos en el esquema. Luego, realiza la operación correcta, así como la respuesta.

- 1) Victoria tiene s/ 1 546 ahorrado en el banco. Carla tiene s/ 577 más que Victoria. ¿Cuántos soles tiene Carla?

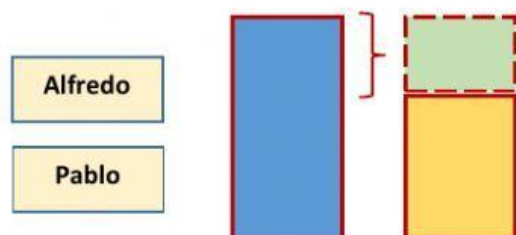


| DM | UM | C | D | U |
|----|----|---|---|---|
| | | | | |
| | | | | |
| | | | | |



Respuesta:

- 2) Alfredo tiene 365 kilos de pecanas para vender por mayor. Pablo 168 kilos de pecanas menos que Alfredo. ¿Cuántos kilos de pecanas tiene Pablo?



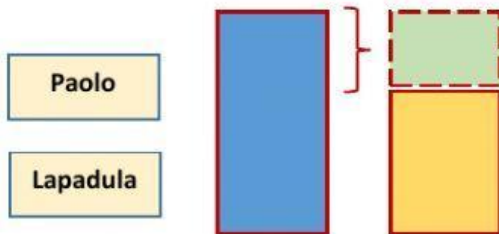
| DM | UM | C | D | U |
|----|----|---|---|---|
| | | | | |
| | | | | |
| | | | | |



Respuesta:



- 3) Se ha observado que Paolo Guerrero ha metido en su carrera un total de 204 goles. Él tiene 73 goles más que el jugador Gianluca Lapadula. ¿Cuántos goles habrá metido Lapadula durante su carrera futbolística?

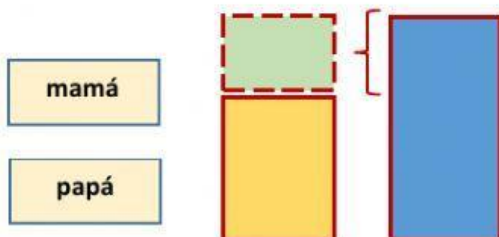


| DM | UM | C | D | U |
|----|----|---|---|---|
| | | | | |
| | | | | |
| | | | | |



Respuesta:

- 4) Los padres de Miguel trabajan para mantener a la familia. La mamá tiene un sueldo de S/ 2850, que son S/ 750 menos que el de su papá. ¿Cuál es el sueldo del papá de Miguel?



| DM | UM | C | D | U |
|----|----|---|---|---|
| | | | | |
| | | | | |
| | | | | |



Respuesta: