



## Penilaian Akhir Semester 2 Muatan IPS

Pilihlah satu jawaban yang paling benar!

1. Organisasi regional yang anggotanya negara-negara di kawasan Asia Tenggara, adalah... .
  - A. IMF
  - B. OPEC
  - C. MEE
  - D. ASEAN
2. Wilayah Asia Tenggara yang berbentuk gugusan kepulauan adalah... .
  - A. Myanmar
  - B. Thailand
  - C. Indonesia
  - D. Kamboja
3. Negara terkecil di Asia Tenggara adalah... .
  - A. Myanmar
  - B. Brunei Darussalam
  - C. Singapura
  - D. Thailand
4. Negara terbesar di Asia Tenggara adalah... .
  - A. Brunei Darussalam
  - B. Malaysia
  - C. Singapura
  - D. Indonesia
5. Negara yang pernah menjadi provinsi di Indonesia yaitu... .
  - A. Brunei Darussalam
  - B. Timor Leste
  - C. Singapura
  - D. Papua Nugini
6. Negara dikawasan Asia Tenggara yang penduduknya mayoritas beragama Islam yaitu... .
  - A. Indonesia dan Malaysia
  - B. Malaysia dan Singapura
  - C. Myanmar dan Brunei Darussalam
  - D. Filipina dan Brunei Darussalam

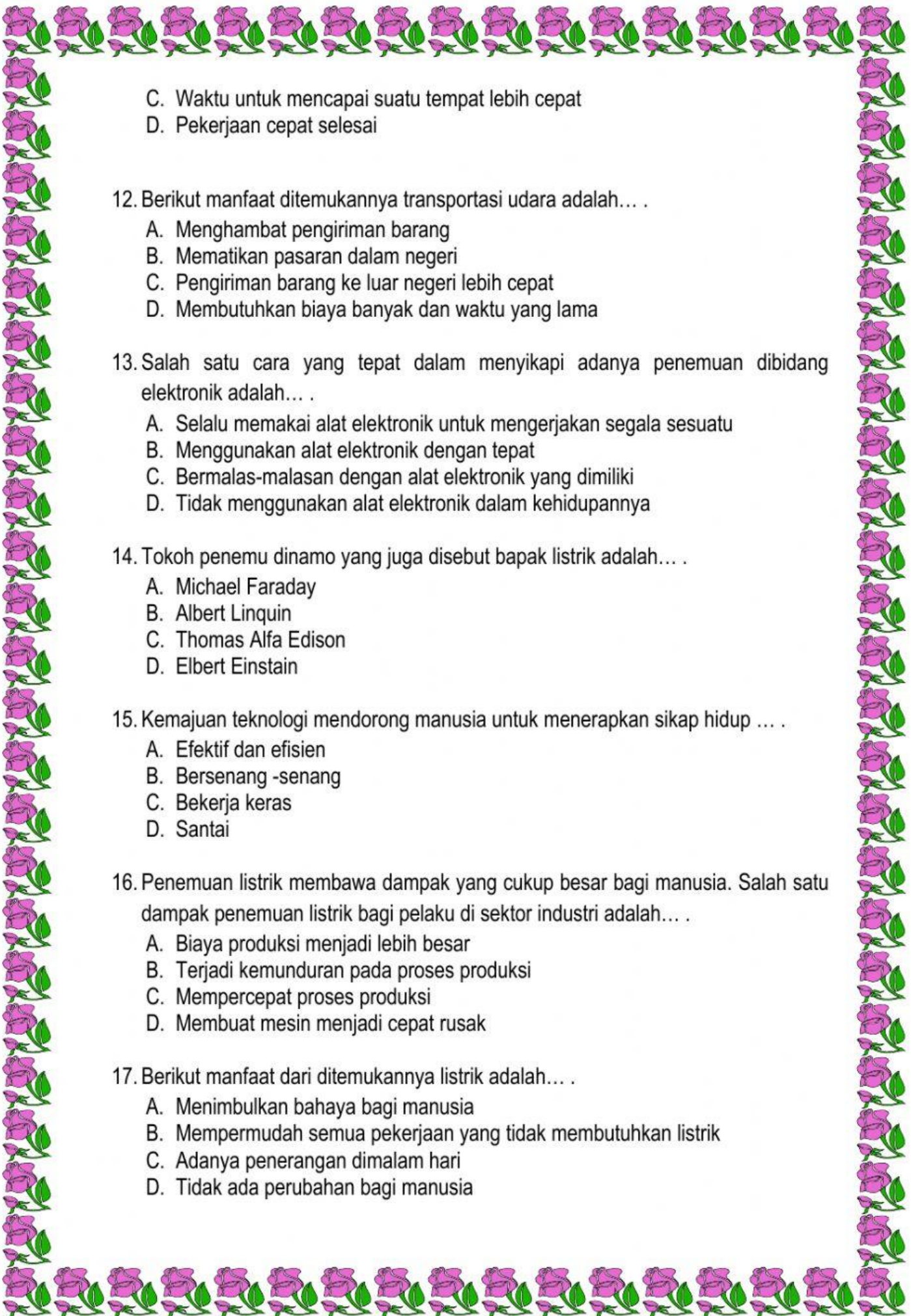
7. Brunei Darussalam merupakan negara kesultanan dengan ibu kota Bandar Seri Begawan yang sebagian besar penduduknya adalah orang... .
- A. Melayu
  - B. Inggris
  - C. Indonesia
  - D. Jawa

8. Perhatikan gambar berikut!



- Bangunan seperti pada gambar merupakan tempat tujuan wisata yang berada di negara... .
- A. Kamboja
  - B. Thailand
  - C. Vietnam
  - D. Singapura
9. Kepala pemerintahan Negara Malaysia adalah... .
- A. Raja
  - B. Sultan
  - C. Perdana Menteri
  - D. Presiden
10. Di bawah ini yang **tidak** termasuk faktor pendorong Singapura menjadi negara paling modern dan paling maju di Asia Tenggara yaitu... .
- A. Situasi keamanan dan politik relative stabil
  - B. Singapura mempunyai sarana dan prasarana pelabungan dan penerbangan internasional
  - C. Singapura mempunyai letak strategis
  - D. Singapura mempunyai SDA melimpah
11. Salah satu dampak positif penemuan telepon adalah... .
- A. Menghemat biaya produksi
  - B. Komunikasi mudah dilakukan



- 
- C. Waktu untuk mencapai suatu tempat lebih cepat
  - D. Pekerjaan cepat selesai

12. Berikut manfaat ditemukannya transportasi udara adalah... .

- A. Menghambat pengiriman barang
- B. Mematikan pasaran dalam negeri
- C. Pengiriman barang ke luar negeri lebih cepat
- D. Membutuhkan biaya banyak dan waktu yang lama

13. Salah satu cara yang tepat dalam menyikapi adanya penemuan dibidang elektronik adalah... .

- A. Selalu memakai alat elektronik untuk mengerjakan segala sesuatu
- B. Menggunakan alat elektronik dengan tepat
- C. Bermalas-malasan dengan alat elektronik yang dimiliki
- D. Tidak menggunakan alat elektronik dalam kehidupannya

14. Tokoh penemu dinamo yang juga disebut bapak listrik adalah... .

- A. Michael Faraday
- B. Albert Linquin
- C. Thomas Alfa Edison
- D. Elbert Einstein

15. Kemajuan teknologi mendorong manusia untuk menerapkan sikap hidup ... .

- A. Efektif dan efisien
- B. Bersenang -senang
- C. Bekerja keras
- D. Santai

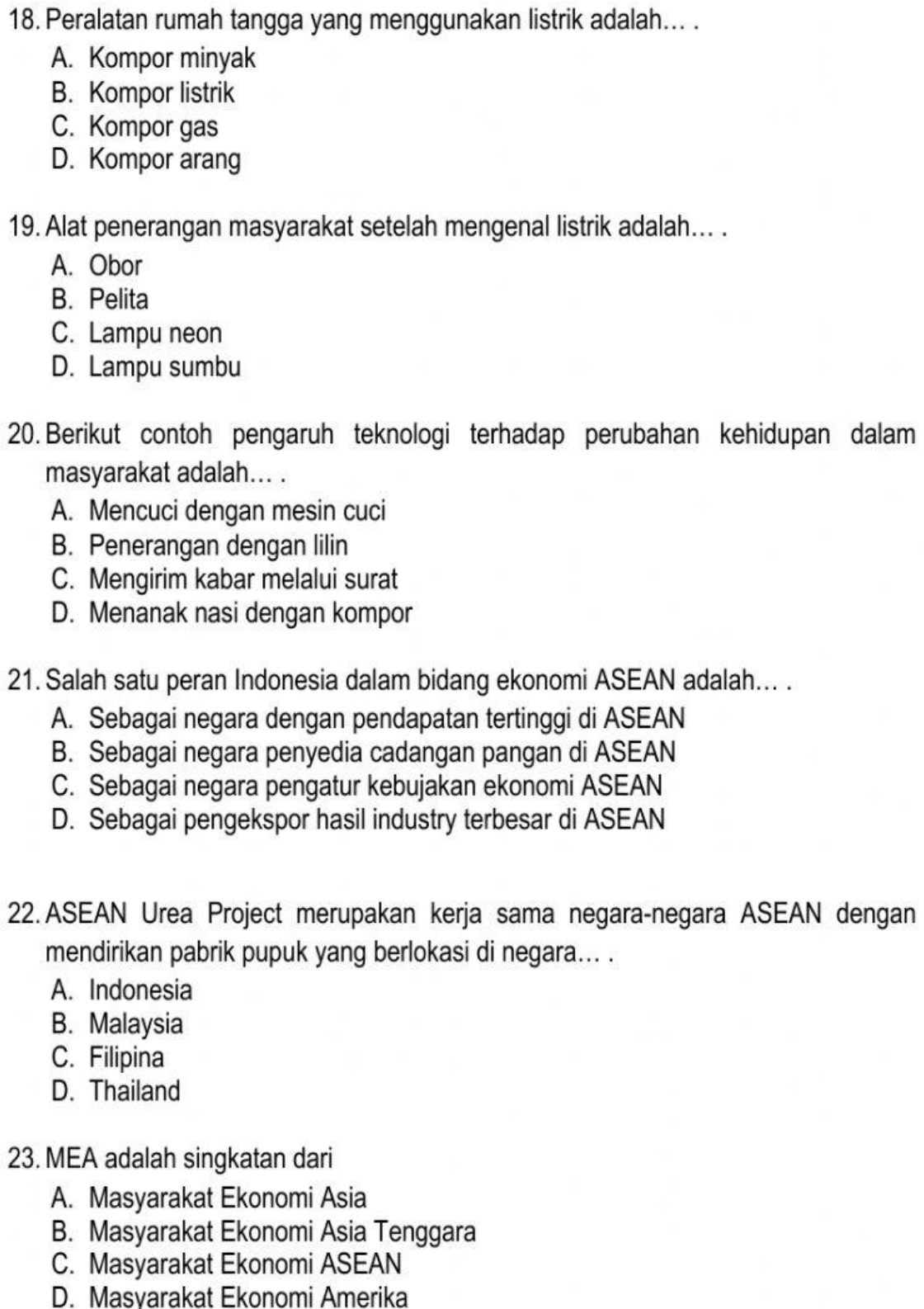
16. Penemuan listrik membawa dampak yang cukup besar bagi manusia. Salah satu dampak penemuan listrik bagi pelaku di sektor industri adalah... .

- A. Biaya produksi menjadi lebih besar
- B. Terjadi kemunduran pada proses produksi
- C. Mempercepat proses produksi
- D. Membuat mesin menjadi cepat rusak

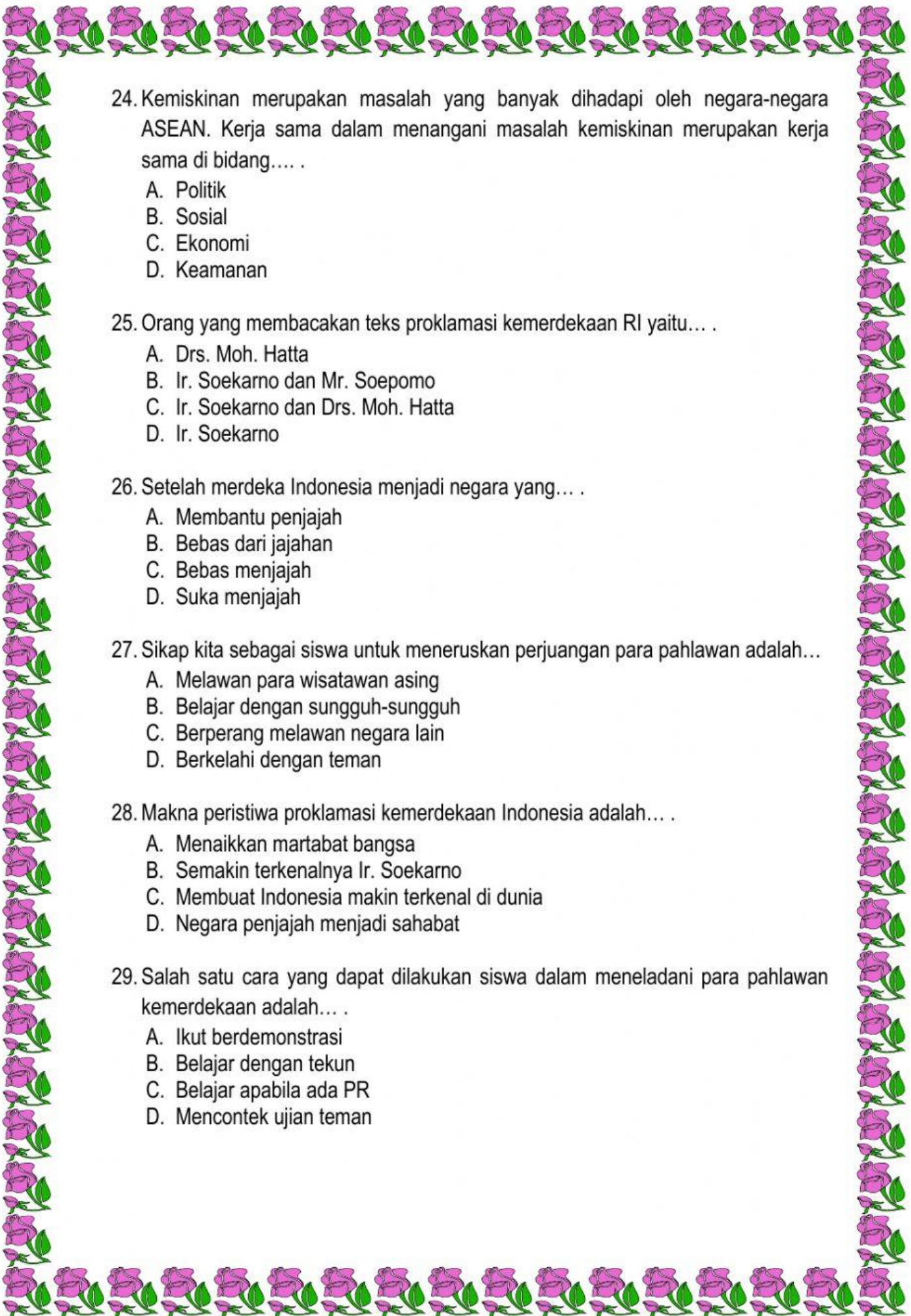
17. Berikut manfaat dari ditemukannya listrik adalah... .

- A. Menimbulkan bahaya bagi manusia
- B. Mempermudah semua pekerjaan yang tidak membutuhkan listrik
- C. Adanya penerangan di malam hari
- D. Tidak ada perubahan bagi manusia



- 
18. Peralatan rumah tangga yang menggunakan listrik adalah... .
- A. Kompor minyak
  - B. Kompor listrik
  - C. Kompor gas
  - D. Kompor arang
19. Alat penerangan masyarakat setelah mengenal listrik adalah... .
- A. Obor
  - B. Pelita
  - C. Lampu neon
  - D. Lampu sumbu
20. Berikut contoh pengaruh teknologi terhadap perubahan kehidupan dalam masyarakat adalah... .
- A. Mencuci dengan mesin cuci
  - B. Penerangan dengan lilin
  - C. Mengirim kabar melalui surat
  - D. Menanak nasi dengan kompor
21. Salah satu peran Indonesia dalam bidang ekonomi ASEAN adalah... .
- A. Sebagai negara dengan pendapatan tertinggi di ASEAN
  - B. Sebagai negara penyedia cadangan pangan di ASEAN
  - C. Sebagai negara pengatur kebijakan ekonomi ASEAN
  - D. Sebagai pengekspor hasil industry terbesar di ASEAN
22. ASEAN Urea Project merupakan kerja sama negara-negara ASEAN dengan mendirikan pabrik pupuk yang berlokasi di negara... .
- A. Indonesia
  - B. Malaysia
  - C. Filipina
  - D. Thailand
23. MEA adalah singkatan dari
- A. Masyarakat Ekonomi Asia
  - B. Masyarakat Ekonomi Asia Tenggara
  - C. Masyarakat Ekonomi ASEAN
  - D. Masyarakat Ekonomi Amerika





24. Kemiskinan merupakan masalah yang banyak dihadapi oleh negara-negara ASEAN. Kerja sama dalam menangani masalah kemiskinan merupakan kerja sama di bidang.... .

- A. Politik
- B. Sosial
- C. Ekonomi
- D. Keamanan

25. Orang yang membacakan teks proklamasi kemerdekaan RI yaitu... .

- A. Drs. Moh. Hatta
- B. Ir. Soekarno dan Mr. Soepomo
- C. Ir. Soekarno dan Drs. Moh. Hatta
- D. Ir. Soekarno

26. Setelah merdeka Indonesia menjadi negara yang... .

- A. Membantu penjajah
- B. Bebas dari jajahan
- C. Bebas menjajah
- D. Suka menjajah

27. Sikap kita sebagai siswa untuk meneruskan perjuangan para pahlawan adalah...


- A. Melawan para wisatawan asing
- B. Belajar dengan sungguh-sungguh
- C. Berperang melawan negara lain
- D. Berkelahi dengan teman

28. Makna peristiwa proklamasi kemerdekaan Indonesia adalah... .

- A. Menaikkan martabat bangsa
- B. Semakin terkenalnya Ir. Soekarno
- C. Membuat Indonesia makin terkenal di dunia
- D. Negara penjajah menjadi sahabat

29. Salah satu cara yang dapat dilakukan siswa dalam meneladani para pahlawan kemerdekaan adalah... .

- A. Ikut berdemonstrasi
- B. Belajar dengan tekun
- C. Belajar apabila ada PR
- D. Mencontek ujian teman



30. Pertempuran di Surabaya adalah salah satu usaha bangsa Indonesia dalam... .

- A. Merebut kemerdekaan
- B. Mengisi kemerdekaan
- C. Mempersiapkan kemerdekaan
- D. Mempertahankan kemerdekaan