



EJERCICIOS DE APLICACIÓN

* Convertir:

1. 3 pies a pulgadas

- a) 12 b) 4 c) 48
d) 36 e) 24

2. 3 m a pies

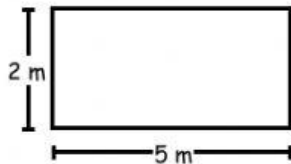
- a) 2 b) 4 c) 6
d) 8 e) 30

3. Determine el perímetro de un cuadrado de 5m de lado.

- a) 5 m b) 2 m c) 3 m
d) 20 m e) 8 m

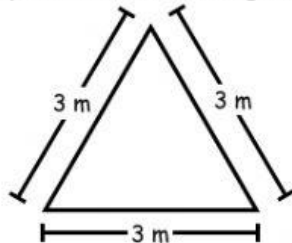
4. Determine el perímetro del rectángulo en la figura:

- a) 2 m
b) 7 m
c) 14 m
d) 16 m
e) 20 m



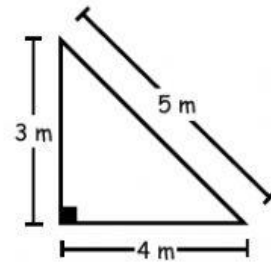
5. Determinar el perímetro del triángulo:

- a) 3 m
b) 6 m



- c) 8 m
d) 7 m
e) 9 m

6. Determine el perímetro del triángulo:



7. En 2 decalitros, ¿cuántos litros hay?

- a) 20 b) 2 c) 2000
d) 200 e) 25

8. En 1 Hm, ¿cuántos metros hay?

- a) 10 b) 1 c) 100
d) 1000 e) 10 000

9. En 1 kg, ¿cuántos gramos hay?

- a) 1 b) 1000 c) 10 000
d) 10 e) 20

10. En 2 libras, ¿cuántas onzas hay?

- a) 16 b) 32 c) 64
d) 72 e) 108