

نشاط متوازي الاضلاع

أسم الطالبة:

خطوة بخطوة

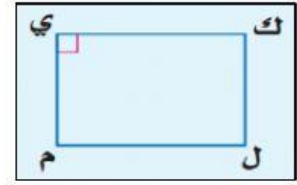
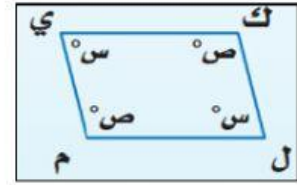
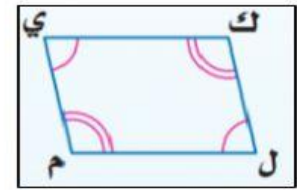
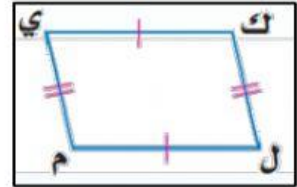
س ١: صلي كل شكل بالخاصية المناسبة له:

إذا كانت إحدى زوايا متوازي الاضلاع قائمة، فإن زواياه الأربعة قوائم

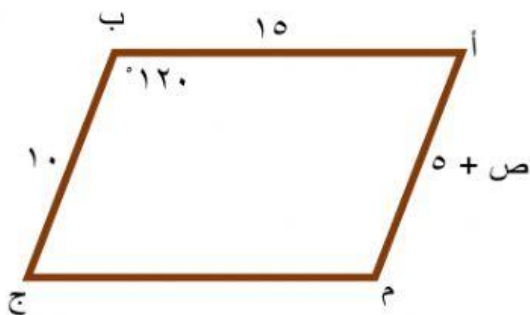
الزوايا المتتالية متكاملة

كل ضلعين متقابلين متطابقين

كل زاويتين متقابلتين متطابقتين.



س ٢: أوجدي القياسات المجهولة:



- قياس الزاوية م =
- قياس الزاوية ج =
- طول الضلع م ج =
- قيمة ص =