




Prénom : _____ Nom : _____ Classe : _____

1. Choisis les mots convenables selon la définition.

- a. **L'arrivée** des personnes à un endroit pour y vivre.
- b. **La sortie** de personnes d'un endroit pour aller vivre dans un autre.
- c. **Tout mouvement** de personnes.
- d. Nombre de personnes qui **naissent** dans un territoire.
- e. Nombre de personnes qui **meurent** dans un territoire.

2. La population peut se classer selon l'âge (edad). Écrit sous l'image à quel groupe la personne de l'image appartient-elle.

 (0-17ans)	 (18-64 ans)	 (+ 65 ans)

3. La population peut se classer par rapport au travail. Coche selon les situations.

SITUATIONS	Population active	Population inactive
Arthur reste à la maison pour s'occuper de ses enfants.		
Bart est étudiant en 2eme année de droit.		
Rosy travaille à mi-temps dans un supermarché.		
Alphonse est retraité.		
Ane est au chômage.		

4. Observe les données et réponds aux questions.

ANNÉE 2021 VILLAGE Bellevie.

Population	50
Naissances	5
Décès	2
Immigrants	2
Émigrants	1

a. Il y a plus de naissances ou plus de décès ?

b. Comment est la croissance naturelle, positive ou négative ?

c. Quelle est la population à la fin de l'année ?

e. La population a -t- elle augmenté ou diminué ?

De combien ?