



NAMA SISWA :

NO. ABSEN :

Dapatkah kamu melihat hubungan dari penjumlahan dan pengurangan?

**Cobalah selesaikan soal-soal berikut.**

1.




Sebuah toko buku memiliki 22 buah pensil.

Toko buku menambah lagi 24 pensil.

Pensil di toko buku semuanya berjumlah...

Ditulis ... + ... = ...

2.




Jika toko buku memiliki 46 buah pensil dan 24 buah pensil patah, pensil di toko buku yang masih utuh sebanyak...

Ditulis ... - ... = ...

---

3.



Jika toko buku memiliki 46 buah pensil dan 22 buah pensil patah, pensil di toko buku yang masih utuh adalah...

Ditulis ... - ... = ...