

## PRACTICA DE GEOMETRÍA

1. En cada recuadro escribe **V** si la afirmación es verdadera o **F** si es falsa.

a) La recta se puede medir.

☐

b) El segmento se puede medir.

☐

c) El rayo se puede medir.

☐

d) Las rectas paralelas se pueden intersectar.

☐


f) Las rectas paralelas no se pueden intersectar.

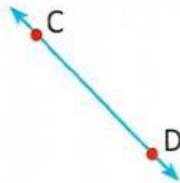
☐

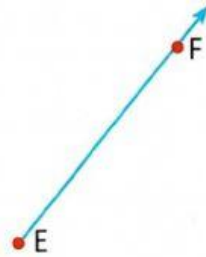
e) La recta no se puede medir.

☐

2. En cada recuadro escribe el nombre que le corresponde a las siguientes líneas.












3. ¿Cuántos segmentos hay en la siguiente figura?

La respuesta no es 2. Nombra los segmentos.






Respuesta: \_\_\_\_\_

3. ¿Cuántos segmentos hay en la siguiente figura?

La respuesta no es 3. Nombra los segmentos.









Respuesta: \_\_\_\_\_