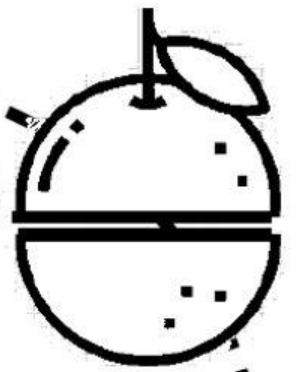












# การคูณ







 1)  $6 \times 8$  



 2)  $5 \times 4$  



 3)  $6 \times 2$  



 4)  $3 \times 5$  



 5)  $4 \times 7$  



 6)  $7 \times 8$  



 7)  $9 \times 4$  



 8)  $3 \times 8$  



 9)  $9 \times 6$  



 10)  $4 \times 3$  

 11)  $8 \times 8$  

 12)  $7 \times 6$  

 13)  $9 \times 0$  

 14)  $5 \times 5$  

 15)  $8 \times 6$  



ชื่อ..... เลขที่ ..... ชั้น.....