





Hoja de trabajo


Instrucciones: Resuelve las adiciones y aplica la propiedad conmutativa.


$$415 + 141 = \square + \square$$


$$122 + 58 = \square + \square$$


$$600 + 267 = \square + \square$$


$$780 + 220 = \square + \square$$


$$800 + 24 = \square + \square$$


$$43 + 50 = \square + \square$$


Realiza las siguientes sumas de dos a cuatro cifras y de dos sumandos.

$$\begin{array}{r} 12 \\ + 39 \\ \hline \end{array}$$

$$\begin{array}{r} 48 \\ + 23 \\ \hline \end{array}$$

$$\begin{array}{r} 75 \\ + 60 \\ \hline \end{array}$$

$$\begin{array}{r} 5789 \\ + 2351 \\ \hline \end{array}$$

$$\begin{array}{r} 324 \\ + 177 \\ \hline \end{array}$$

$$\begin{array}{r} 475 \\ + 236 \\ \hline \end{array}$$

$$\begin{array}{r} 641 \\ + 229 \\ \hline \end{array}$$

$$\begin{array}{r} 2107 \\ + 5241 \\ \hline \end{array}$$

Realiza las siguientes sumas de dos a cuatro dígitos y de dos a cuatro sumandos.

$$\begin{array}{r} 8\ 4\ 1\ 4 \\ +\ 4\ 1\ 4\ 3 \\ \hline \end{array}$$

$$\begin{array}{r} 1\ 3\ 9\ 2 \\ +\ \quad\quad 4\ 8 \\ \hline \end{array}$$

$$\begin{array}{r} \quad\quad 2\ 5\ 4 \\ +\ 2\ 3\ 9\ 2 \\ \hline \end{array}$$

$$\begin{array}{r} 7\ 4\ 8\ 3 \\ 8\ 4\ 8\ 9 \\ +\ \quad 5\ 9\ 2 \\ \hline \end{array}$$

$$\begin{array}{r} 3\ 6\ 7\ 1 \\ \quad\quad 6\ 1 \\ +\ 8\ 8\ 7\ 8 \\ \hline \end{array}$$

$$\begin{array}{r} 6\ 6\ 8\ 5 \\ \quad\quad 5\ 4\ 5 \\ +\ 6\ 7\ 2\ 9 \\ \hline \end{array}$$

$$\begin{array}{r} \quad\quad 2\ 9\ 5 \\ \quad\quad\quad 9\ 3 \\ 9\ 6\ 5\ 7 \\ +\ 1\ 8\ 5\ 5 \\ \hline \end{array}$$

$$\begin{array}{r} 4\ 9\ 7\ 7 \\ \quad\quad 2\ 7\ 7 \\ \quad\quad 7\ 7\ 5 \\ +\ 5\ 6\ 3\ 7 \\ \hline \end{array}$$

$$\begin{array}{r} 9\ 6\ 2\ 3 \\ \quad\quad 7\ 5\ 9 \\ \quad\quad 5\ 1\ 3\ 9 \\ +\ 2\ 8\ 3\ 5 \\ \hline \end{array}$$