





A. Jom kita menamakan not-not di bawah serta nilainya. Letak jawapan pada kotak yang tepat.

Bil	Not	Nama Not	Nilai Not
1			
2			
3			
4			

1/2
















minim 4

semibrif 1

kuaver 2

krocet

B. Tambahkan nilai-nilai not untuk mendapatkan jawapan yang betul. Letak jawapan pada ruang yang betul.

1.		+		=			
2.		+		=			
3.		+		=			
4.		+		+		=	
5.		+		+		=	
6.		+		+		=	

3

1

5

2

6

7