

EVALUACIÓN DEL SEGUNDO TRIMESTRE COMPUTACIÓN 4°

Nombre: _____

1. De acuerdo con la imagen, arrastra los elementos del sistema de cómputo en el lugar que les corresponde:



Datos Equipo de cómputo Usuario Programas

2. Son instrumentos que permiten informar y comunicar a muchas personas a la vez, por ejemplo, el periódico, la radio e internet.

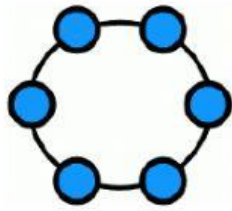
Medios electrónicos Medios de comunicación Medios de difusión

3. Selecciona los 6 fines de los medios de comunicación

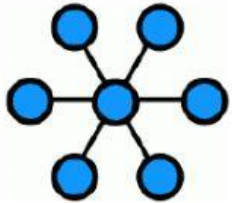
Formar opinión Transmitir Informar Envejecer

Enseñar Educar Continuar Entretener

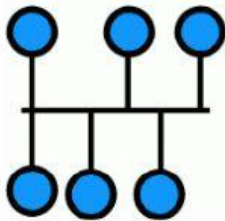
4. Une las topologías de red con la imagen que las representa



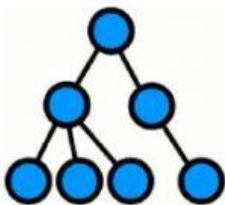
Árbol



Bus



Anillo



Estrella

5. Escribe una V si consideras que la afirmación es verdadera y una F si consideras que es falsa

1. Los adaptadores de red son dispositivos que permiten a la computadora comunicarse con otras a través de una red alámbrica o inalámbrica.
2. Los adaptadores de red son archivos almacenados en carpetas.
3. Un adaptador de red puede estar en el interior o exterior de la computadora.

☐
☐
☐

4. El adaptador de red interno funciona sólo de noche.

5. Así se ve un adaptador de red externo.



6. Encuentra los siguientes conceptos:

Internet

Intranet

Spam

Webbugs

Phishing

O	P	A	D	T	G	S	E	E
E	I	N	T	R	A	N	E	T
T	S	W	S	N	R	D	E	R
N	H	I	E	E	E	N	Z	S
U	I	S	G	B	R	R	A	N
R	N	R	S	E	B	U	I	B
L	G	I	T	P	H	U	N	P
I	B	N	A	A	A	T	G	G
W	I	P	Y	N	T	M	O	S

7. Menciona una manera de prevenir riesgos en internet: