



Jawablah pertanyaan di bawah ini dengan cara mengetik huruf A, B, C, atau D untuk jawaban yang tepat dan benar pada kolom yang telah disediakan !

1.  Gambar di samping merupakan salah satu contoh objek gambar yang termasuk kedalam kategori....
- Bebas
  - Kubistis
  - Organik
  - Silindris

2. Perhatikan pernyataan berikut:
- Mengetahui bagian-bagian dari objek gambar
  - Memberikan dimensi gelap terang baik hitam putih atau berwarna
  - Mengetahui bentuk dasar dari objek yang akan di gambar
  - Memberi kesan untuk latar belakang
  - Menyusun atau menyambung bagian perbagian menjadi gambar yang utuh


Tahapan yang harus dilakukan pada saat menggambar adalah...

- 1 - 3 - 2 - 5 - 4
- 1 - 3 - 5 - 2 - 4
- 3 - 1 - 2 - 5 - 4
- 3 - 1 - 5 - 2 - 4

3.  Gambar di samping merupakan contoh ragam hias dengan corak ...
- Alam benda
  - Fauna
  - Flora
  - Geometris


4. Salah satu cara penerapan ragam hias pada tekstil dengan menggunakan Teknik celup rintang adalah...

- Anyam
- Batik
- Bordir
- Sablon

5.  Gambar disamping adalah salah satu contoh gambar yang memiliki komposisi....

- Asimetris
- Horisontal
- Simetris
- Vertikal

3.6 Proporsi membuat gambar tampak wajar.

6.  Gambar disamping merupakan kategori gambar ilustrasi jenis....
- Kartun
  - Karikatur
  - Komik
  - Vignette

7. Berikut adalah salah satu media yang tepat digunakan untuk menggambar ilustrasi dengan menggunakan teknik kering....

- Akrilik
- Oil painting
- Pastel colour
- Watter colour

8. Perhatikan pernyataan berikut

1. Menentukan topik dan tujuan
2. Membuat kalimat singkat dan mudah
3. Menentukan anggaran
4. Menggunakan gambar
5. Menentukan media

Persyaratan yang diperlukan dalam pembuatan poster yang baik adalah...

- |                  |                 |
|------------------|-----------------|
| A. 1 – 2 – 4 – 5 | C. 1 – 2 – 3- 5 |
| B. 1 – 3 – 4 – 5 | D. 2 – 3 – 4 -5 |

9.



Gambar di samping adalah contoh dari poster jenis....

- |              |               |
|--------------|---------------|
| A. Komersial | C. Propaganda |
| B. Kritis    | D. Sosial     |

10. Hal yang pertama kali dilakukan dalam langkah-langkah pembuatan komik agar cerita tidak melebar adalah...

- A. Membuat kalimat singkat dan mudah diingat
- B. Menggunakan gambar
- C. Menentukan topik dan tujuan
- D. Menggunakan media yang tepat

11. Karya lukisan yang objeknya menggambarkan suasana alam mimpi, merupakan suatu lukisan yang bergaya....

- |                   |                |
|-------------------|----------------|
| A. Ekspresionisme | C. Naturalisme |
| B. Kubisme        | D. Surealisme  |

12.



Pada gambar dsamping, unsur seni rupa yang nampak adalah.....

- |           |          |
|-----------|----------|
| A. Bidang | C. Garis |
| B. Bentuk | D. Warna |

13.



Gambar disamping merupakan contoh dari lukisan dengan gaya...

- |                   |               |
|-------------------|---------------|
| A. Ekspresionisme | C. Realisme   |
| B. Naturalisme    | D. Surealisme |

14.



Contoh gambar patung disamping, berdasarkan ukurannya merupakan kategori patung jenis...

- |            |          |
|------------|----------|
| A. Kepala  | C. Torso |
| B. Manusia | D. Utuh  |

15. Patung yang bukan penggambaran dari objek-objek yang berada di alam sekitar disebut...

- |                      |                         |
|----------------------|-------------------------|
| A. Patung alam benda | C. Patung non figuratif |
|----------------------|-------------------------|

16.



Gambar disamping merupakan proses pembuatan cetakan yang dibuat dengan cara dicungkil sehingga bagian motif akan nampak menonjol, teknik tersebut dalam seni grafis disebut...

- A. Teknik cetak dalam
- B. Teknik cetak datar
- C. Teknik cetak saring
- D. Teknik cetak tinggi

17.



Gambar disamping menunjukkan cara pembuatan karya seni grafis dengan menggunakan teknik..

- A. Cetak dalam
- B. Cetak datar
- C. Cetak saring
- D. Cetak tinggi

18. Suatu kelas menyelenggarakan pameran dengan materi pameran terdiri dari lukisan, patung, kerajinan tangan dan diselenggarakan di halaman sekolah, maka pameran tersebut berjenis

- A. Tunggal – heterogen – indoor
- B. Kelompok – heterogen – outdoor
- C. Tunggal – heterogen – outdoor
- D. Kelompok – heterogen – indoor

19. Mengkordinasi kerja seluruh panitia kerja termasuk sekretaris dan bendahara merupakan salah satu tugas dari....dalam kepanitiaan pameran.

- A. ketua
- B. pembimbing
- C. penanggung jawab
- D. seksi acara

20. Perhatikan pernyataan berikut:

1. Membuat karya
2. Pelaksanaan
3. Menyeleksi karya
4. Menyusun kepanitiaan
5. Membuat proposal
6. Evaluasi

Berdasarkan pernyataan di atas, tahapan yang benar yang harus ditempuh dalam menyelenggarakan pameran adalah...

- A. 1 – 2 – 3 – 4 – 5 – 6
- B. 1 – 3 – 4 – 2 – 5 – 6
- C. 4 – 5 – 1 – 3 – 2 – 6
- D. 5 – 4 – 1 – 3 – 2 – 6

21. Bernyanyi adalah kegiatan bermusik dengan menggunakan organ pita suara manusia, menyanyikan melodi utama dari sebuah lagu yang dinyanyikan secara berkelompok dengan satu suara disebut... .

- A. Bernyanyi secara unisono
- B. Paduan suara sejeni
- C. Bernyanyi secara vokal group
- D. Bernyanyi secara solo vokal

22. Dalam ajang lomba bernyanyi sering kita dengar istilah-istilah musik yang disampaikan oleh dewan juri. Istilah itu antara lain: „Artikulasi”. Istilah tersebut digunakan untuk menjelaskan teknik vokal yang berhubungan dengan... .

- A. Pemenggalan kalimat
- B. Pengucapan kata



- C. Ketepatan nada  
D. Pernafasan
23. Saat menyanyikan sebuah lagu, hendaknya lirik lagu dinyanyikan secara tepat, jangan sampai kata-kata yang terdapat dalam lagu terpotong saat menyanyikannya dikarenakan pemenggalan yang tidak tepat. Dalam menyanyi istilah ini dikenal dengan sebutan....  
A. Artikulasi  
B. Dialek  
C. Intonasi  
D. Prasering
24. Teknik pernapasan ini sangat dianjurkan dalam bernyanyi, karena bernyanyi dengan teknik ini memungkinkan untuk mengambil napas secara maksimal dan mengeluarkannya secara perlahan-lahan serta teratur. Deskripsi tersebut menjelaskan teknik pernapasan yang terpusat pada....  
A. Perut  
B. Dada  
C. Diafragma  
D. Hidung
25. Musik daerah pada dasarnya memiliki arti yang sangat penting bagi kehidupan masyarakatnya. Secara umum musik berfungsi untuk menanggalkan segala macam kepenatan dan kelelahan dalam aktifitas sosial budaya sehari-hari. Deskripsi diatas menjelaskan fungsi sebagai....  
A. Media pengiring tari  
B. Media rekreatif/hiburan  
C. Media upacara adat  
D. Media bermain
26. Irama musik dapat berpengaruh pada perasaan seseorang. Irama musik dapat menginspirasi seseorang untuk menciptakan gerakan-gerakan yang indah. Dalam hal ini musik berfungsi sebagai...  
A. Media pengiring tari  
B. Media rekreatif/hiburan  
C. Media upacara adat  
D. Media bermain
27. Lagu Ampar-Ampar Pisang, Cublak-Cublak Suweng, Pok Ame-Ame dan sebagainya adalah sarana anak-anak untuk mengekspresikan dirinya dalam kegiatan sosial mereka. Lagu-lagu tersebut memiliki fungsi sebagai...  
A. Media pengiring tari  
B. Media rekreatif/hiburan  
C. Media upacara adat  
D. Media bermain
28. Penyanyi musik tradisi yang diiringi oleh gamelan dan penyanyinya adalah perempuan yang umumnya dia adalah satu-satunya penyanyi dipagelaran tersebut. Istilah yang sering digunakan untuk penyanyi tersebut adalah...  
A. Vokalis  
B. Solois  
C. Sindhen  
D. Alok
29. Cermati potongan syair lagu berikut!  
"Ampar-ampar pisang, pisangku belum masak".... kelanjutan syair yang benar untuk lagu tersebut adalah....  
A. Masak sabigi dihurung bari-bari  
B. Masa bigi dihurung bari-bari  
C. Bengkok dimakan api, apinya clangcurupan  
D. Masak sabigi dikitipi dawang
30. Pada dasarnya bentuk alat musik dibagi kedalam tiga bentuk dasar; bentuk tabung, bentuk bilahan dan bentuk pencon. Gambar disamping adalah alat musik dengan bentuk dasar...  
A. Tabung  
B. Bilah  
C. Pencon



D. Bentuk lain

31. Gambar alat musik pada soal nomor 30 biasanya dimainkan dengan cara...
  - A. Dipukul dengan tangan
  - B. Dipukul dengan stik khusus
  - C. Digesek dengan bow
  - D. Ditiup dengan hembusan angin
32. Berikut adalah yang bukan menjadi penyebab perbedaan Warna bunyi atau timbre yang dihasilkan oleh suara manusia, yaitu ....
  - A. Bentuk pita suara
  - B. Bentuk rongga tenggorokan
  - C. Warna kulit dari manusia
  - D. Teknik membunyikan/memainkan vokal
33. Ambitus adalah kemampuan seseorang dalam mencapai nada terendah dan nada tertinggi dalam aktifitas bernyanyi, ambitus dapat juga disebut ....
  - A. Kekuatan Suara
  - B. Kekuatan bunyi
  - C. Wilayah nada
  - D. Wilayah bunyi



34. Amatilah gambar pembagian wilayah suara manusia dewasa diatas!. Wilayah suara Tenor (suara laki-laki tinggi) berada pada rentang nada....
  - A. A sampai dengan f '
  - B. F sampai dengan d '
  - C. c sampai dengan a '
  - D. F sampai dengan a '
35. Amati lagi gambar pembagian wilayah suara manusia dewasa diatas! Berapakah jumlah nada pada wilayah suara Mezzosopran?
  - A. 10 nada
  - B. 11 nada
  - C. 12 nada
  - D. 13 nada
36. Gambar pembagian wilayah suara manusia diatas akan membantumu untuk menemukan jenis suara manusia yang tertinggi. Jenis suara tersebut adalah....
  - A. Sopran
  - B. Alto
  - C. Tenor
  - D. Bas
37. Ciri-ciri musik ini adalah vocal yang sering menirukan suara instrument, karakter vokal yang berat, harmonisasi yang terkesan rumit, dan sering terjadi modulasi atau perubahan tangga nada dalam lagu-lagunya. Adalah deskripsi dari....
  - A. Musik pop
  - B. Musik jazz

- C. Musik dangdut
- D. Musik rock

38. Jenis lagu atau musik ini adalah musik dengan genre tertentu yang disukai dan dikenal oleh hampir semua kalangan usia. Penyebaran musik ini pada umumnya dilakukan melalui industri musik yang bersifat komersil. Tema lagu, melodi dan lirik yang mudah dipahami. Pernyataan tersebut adalah deskripsi dari ....
- A. Musik pop
  - B. Musik jazz
  - C. Musik dangdut
  - D. Musik rock
39. Jika kita menyaksikan sajian musik yang dimainkan oleh beberapa orang dengan jenis alat musik yang berbeda, biasanya didalam kelompok tersebut terdapat alat musik fungsi melodis, fungsi harmonis dan fungsi ritmis. Adalah penyajian dari musik....
- A. Ansambel sejenis
  - B. Ansambel terbuka
  - C. Ansambel campuran
  - D. Ansambel tertutup

40.

**KETERANGAN:**

Huruf:

A = Bagian Head (Kepala)

B = Bagian Body (Badan)

C = Bagian Foot (Kaki)

Srie Kuncoro

Angka:

1 = Mouthpiece (Bagian Mulut)

2 = Lubang Suara

3 = Lubang 1

4 = Lubang 2

5 = Lubang 3

6 = Lubang 4

7 = Lubang 5

8 = Lubang 6

9 = Lubang 7

10 = Lubang Udara

0 = Lubang Oktaf (di bawah)

Sanggar MTsN Model Babakan

Sanggarmodel.blogspot.com



Perhatikan gambar rekorder soprano di samping! Jika semua lubang tertutup oleh jari dan hanya lubang 7 yang dibuka maka nada yang dihasilkan adalah....

- A. f
- B. e
- C. d
- D. c