

Tema: Suma de enteros

Valor: 10 puntos

Instrucciones: Realiza las siguientes sumas de enteros, cuidado con los signos. Recuerda que el signo negativo **siempre** hay que escribirlo.

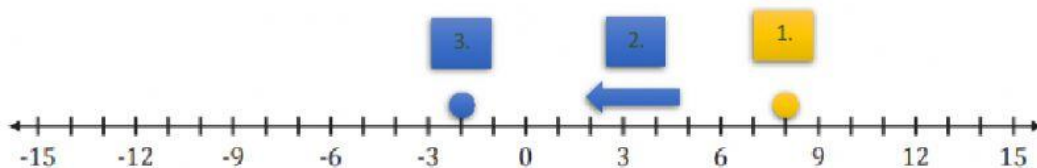
I. Realiza las sumas de enteros utilizando la recta numérica.

Ejemplo:

$8 + -10$  1. localiza el primer número

2. selecciona la flecha que indica el signo del próximo número.

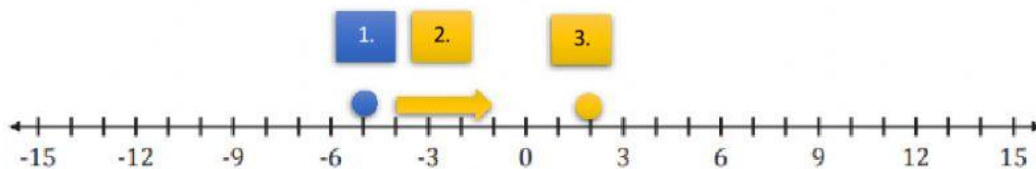
3. ubica el círculo restante en la posición correspondiente luego de moverte 10 posiciones a la izquierda



$-5 + 7$  1. localiza el primer número

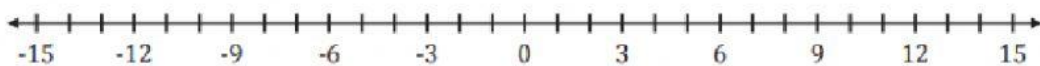
2. selecciona la flecha que indica el signo del próximo número.

3. ubica el círculo restante en la posición correspondiente luego de moverte 7 posiciones a la derecha

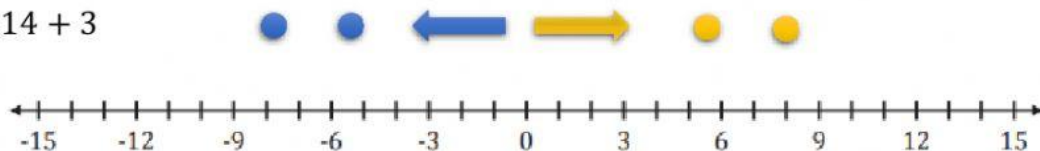


Práctica:

1.  $-2 + -9$



2.  $-14 + 3$



3.  $8 + -15$

