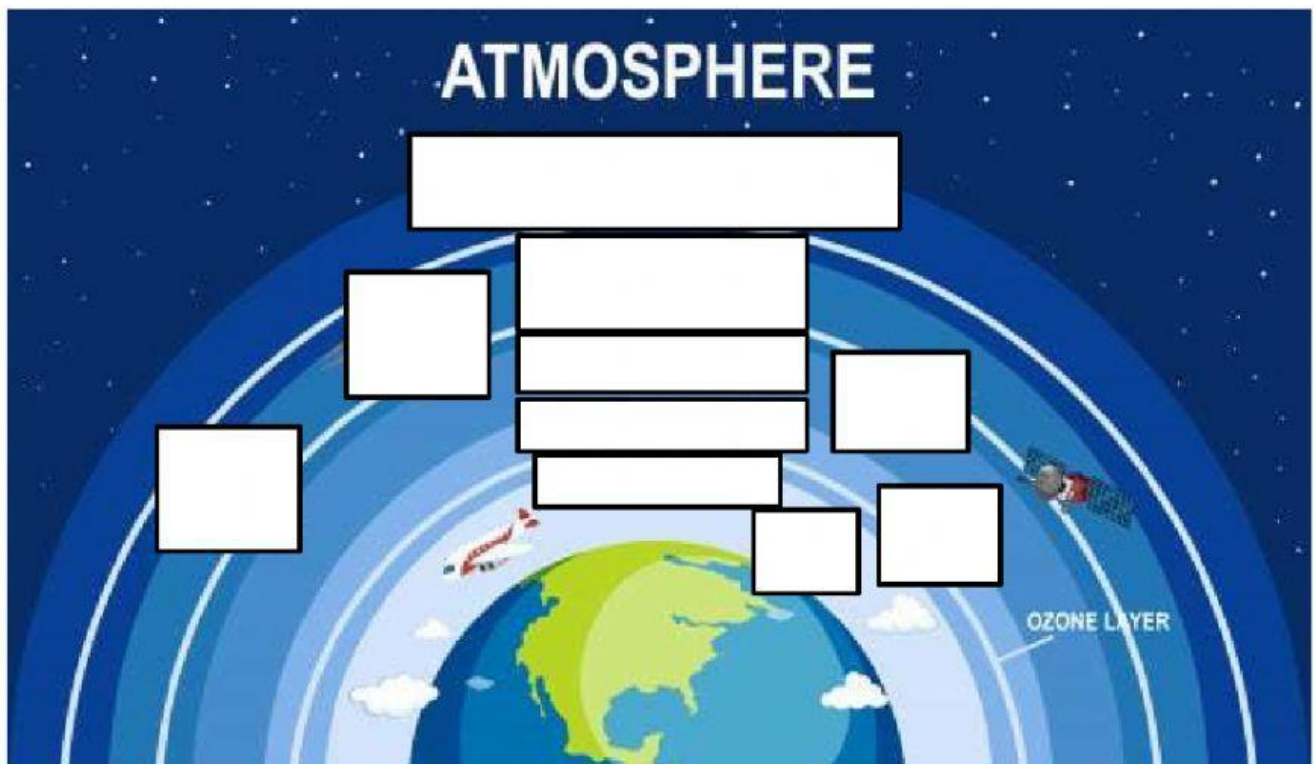


**TUGAS MANDIRI**  
**KD 3.6 Dinamika Atmosfer dan Pengaruhnya terhadap Kehidupan**  
**Sub Materi Karakteristik Lapisan Atmosfer**

Nama	:	
Sekolah	:	
Kelas	:	

Isilah kotak kosong berikut dengan kata dan gambar yang tepat pada masing-masing lapisan atmosfer!



Menurut kalian, mengapa atmosfer penting bagi kehidupan manusia

Hubungkan kata di kotak bagian kanan dengan fenomena yang tepat!



Halo

Green Flash

Sun Dog


Pelangi Api

Fatamorgana

Aurora

**Sub Materi**  
**Unsur-Unsur Cuaca dan Iklim**

Isilah kotak berikut dengan jenis awan yang tepat!



Hubungkan kata di kotak bagian kanan dengan fenomena yang tepat!



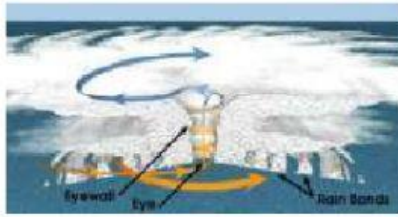
**Hujan Frontal**



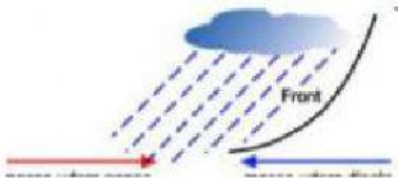
**Angin Monsun**



**Hujan Sinklonal**



**Sudut datang sinar matahari**



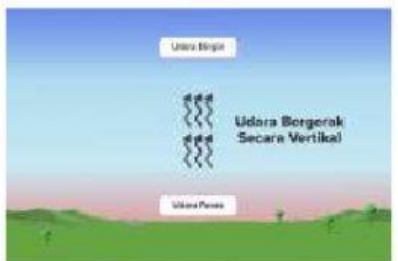
**Konveksi**



**Angin Darat**



**Hujan Orografis**



**Angin Lembah**



**Perhatikan gambar berikut!**



Menurut kalian? Mengapa hal tersebut bisa terjadi?

Jika kalian menjadi presiden, apa yang akan kalian lakukan untuk mengatasi masalah tersebut?

Tulislah di kolom berikut