


3 Escribe a qué parte de la ciudad corresponde cada dibujo.




4 Observa el plano y responde las preguntas.

• ¿Cómo se ha representado el hospital?


• ¿Qué edificio está en la cuadrícula C-2?

• ¿En qué cuadrícula está el museo?



9 Escribe a qué servicio municipal hace referencia cada número.

1. _____
2. _____
3. _____



10 ¿Qué tipo de señal de tráfico es? ¿De qué advierte?

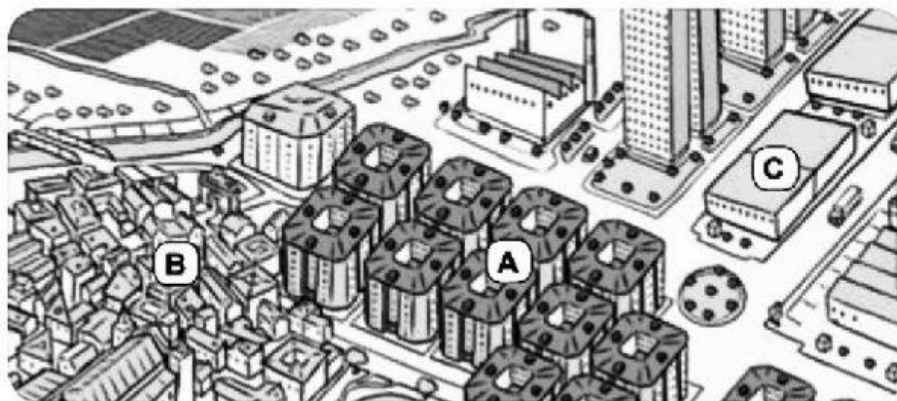


2 Escribe a qué zona de la ciudad corresponde cada letra en el dibujo.

A. _____

B. _____

C. _____



9 ¿Qué servicios municipales aparecen en este dibujo? Identifícalos y clasifícalos.



- 5 ¿De qué tipo son estas señales de tráfico? Escribe *obligación*, *prohibición*, *advertencia* o *información*.







