

# Examen Trimestral 2° .

Nombre:

1.- ¿Las teclas F;G Ñ se ubican el que linea del teclado?

- A. Superior
- B. Central
- C. Inferior

2.- ¿En cuántas secciones se divide un teclado de computadora?

3.-¿Cuál es nombre de la sección marcada en el teclado?



4.-¿Cuál es nombre de la sección marcada en el teclado?



5.-¿Qué manos están acomodadas correctamente en posición inicial ?



Opción 1



Opción 2



Opción 3

6.-¿ Una de las letras de las siguientes serie no corresponde ¿cuál es ?

Opción 1

H J K L N

Opción 2

Q W E R T

Opción 3

Y U I O P

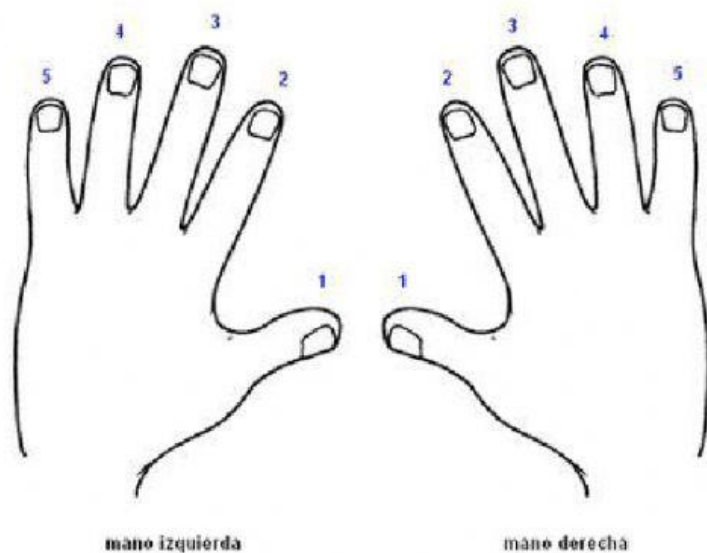
Opción 4

A X D F G

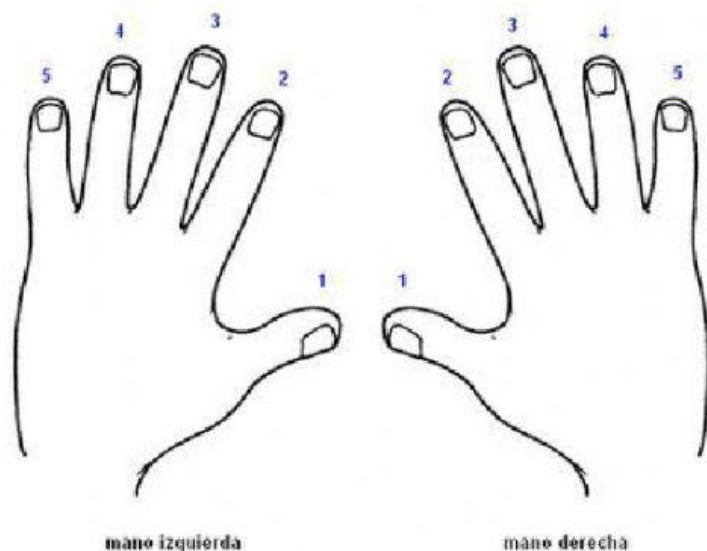
7.-¿ Al presionar las teclas de la fila superior tienes que subir toda la mano?

- A. Verdadero
- B. Falso

8.-¿Qué número son los dedos que pueden presionar más de una tecla en la misma fila?



9.- Escribe el nombre de los dedos marcados con el número 4 y las teclas que presiona cada uno de ellos



Tu respuesta

10.- ¿Cuál es la regla al presionar las teclas de la línea superior?

- Subir toda la mano y colocar los dedos sobre las teclas de la línea superior.
- Subir únicamente el dedo que presiona la tecla necesaria y bajarlo a la posición inicial después de haber presionado la tecla.
- Ninguna, no existe reglas para presionar las teclas superiores.

11.- ¿Cuál de las siguientes palabras se puede escribir con solo las teclas de la línea superior del teclado?

- A. reporte  
B. paleta  
C. gato

12.- ¿En cuántas secciones se divide un teclado de computadora?

13.-¿Cuál es el dedo que más teclas presiona en las 3 líneas ?

14.-¿Cuál es la línea en la que se encuentran las teclas del Guion , y la coma?

15.-¿Qué manos están acomodadas correctamente en posición inicial ?



Opción 1



Opción 2



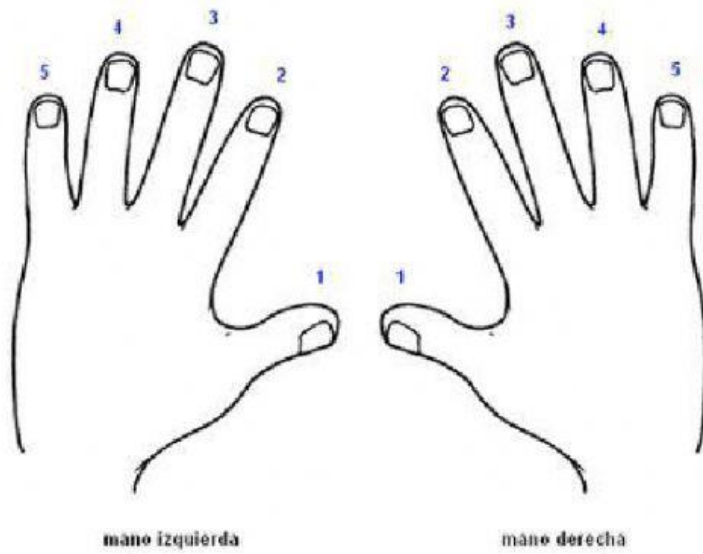
Opción 3

16.- ¿Cuáles son Los únicos dedos que pueden presionar más de un tecla en la misma línea?

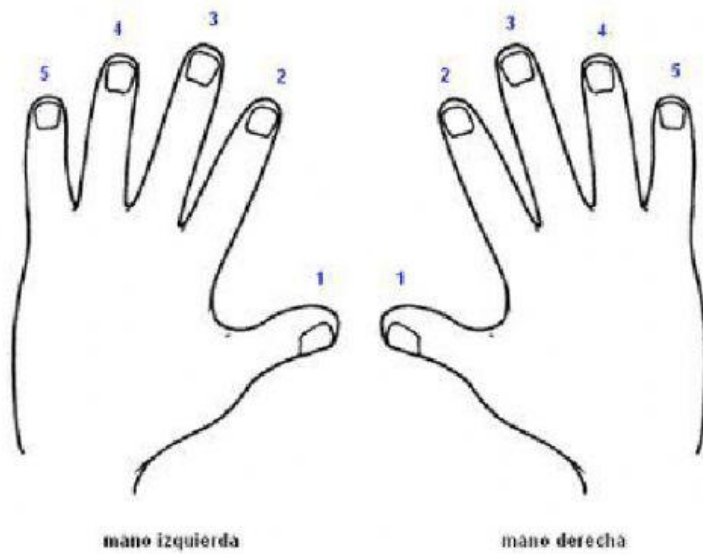
17.-¿ Al presionar las teclas de la fila inferior tienes que bajar toda la mano?

- A. Verdadero
- B. Falso

18.-¿Qué número son los dedos que deben presionar la tecla - . , ?



19.- Escribe el nombre de los dedos marcados con el número 3 y las teclas que presiona cada uno de ellos



Tu respuesta



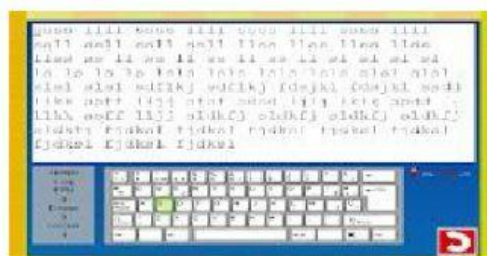
20.-¿Qué pantalla corresponde a la Plataforma que usamos para ejercitar nuestra mecanografía (typinCulb)



Opción 1



Opción 2



Opción 3

22.-¿Porque en algunas plataformas de ejercitación de mecanografía no aparece la tecla Ñ.?



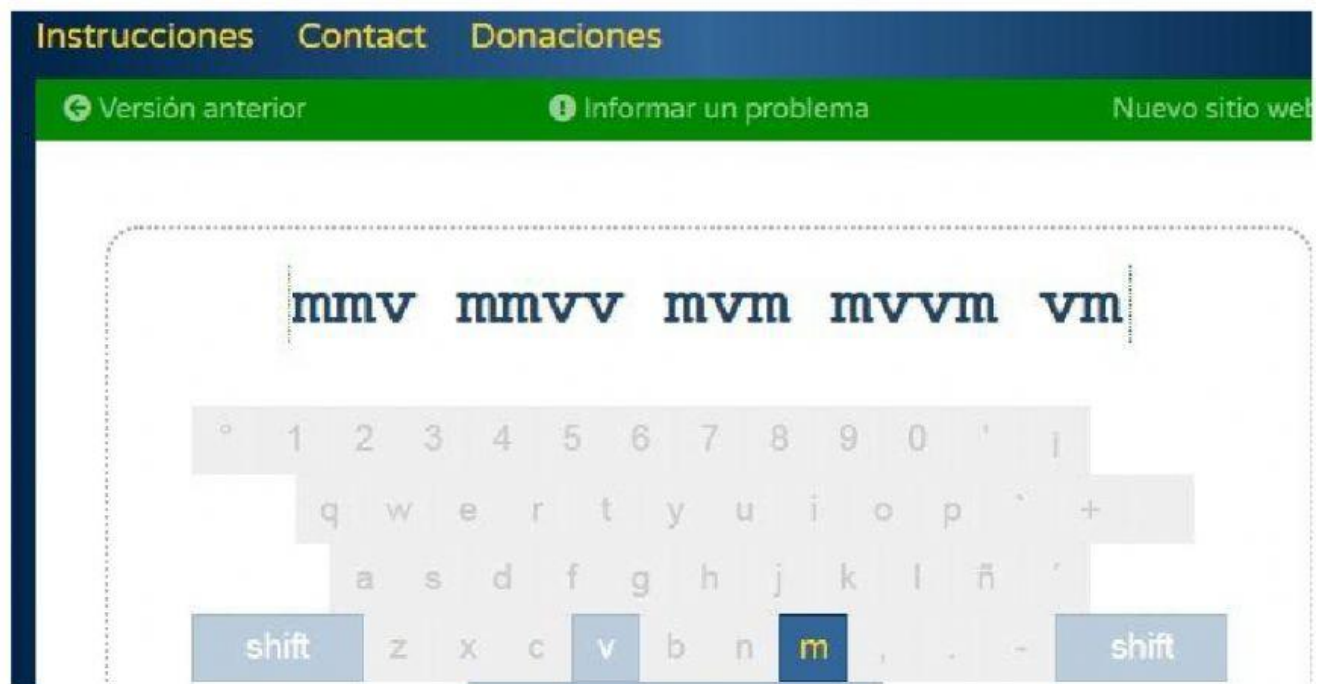
- A. Porque la tecla Ñ no es importante.
- B. Porque existen poca palabras que tengan la tecla Ñ
- C. Por que estan en idioma de ingles y en ese idioma no existe la letra Ñ.

23.-¿Que tenemos que configurar en la plataforma para que nuestro teclado aparezca en español?

24.-¿Cuál es la línea del teclado que contiene las teclas R Y P?

- A. Superior
- B. Central
- C. Inferior.

25.- ¿Con qué dedo se presionan las teclas de la siguiente imagen?



Tu respuesta