

KERJAKAN SOAL-SOAL BERIKUT DENGAN BENAR!

1. Berikut nilai ulangan matematika siswa kelas 4.

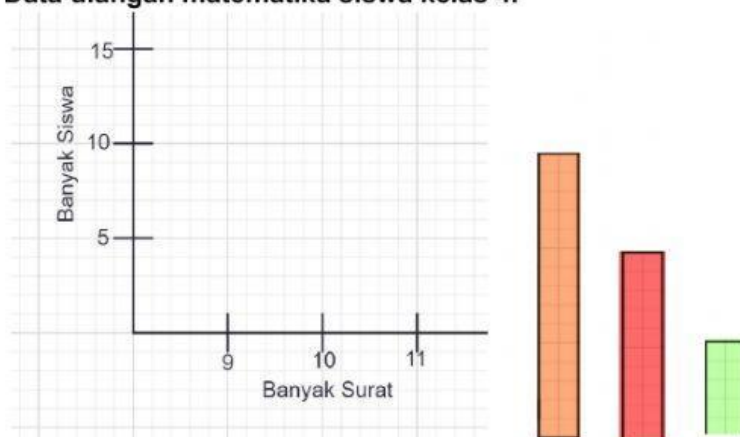
9 10 9 10 8 8 8 9 10 9
8 8 8 10 10 8 10 10 8 10
10 10 8 10 10 8 10 10 10 9

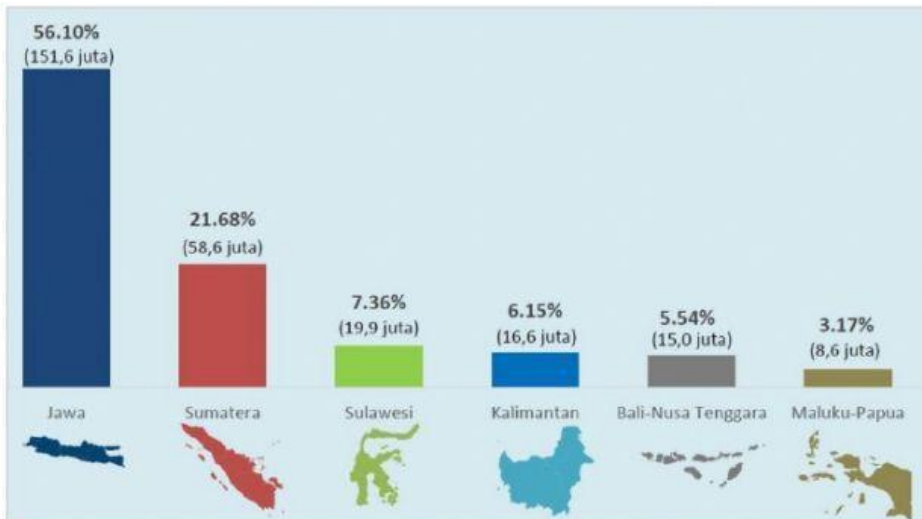
Lengkapilah tabel berikut berdasarkan data di atas!

Banyak Surat	Banyak Siswa
8	
9	
10	

Lengkapilah diagram batang berikut berdasarkan tabel tersebut dengan *cara memilih gambar batang yang sesuai!*

Data ulangan matematika siswa kelas 4.





2. Pada akhir tahun 2020, pemerintah melalui Badan Pusat Statistika mengadakan Sensus Penduduk.
Hasil sensus penduduk Indonesia menurut pulau disajikan pada diagram batang berikut.

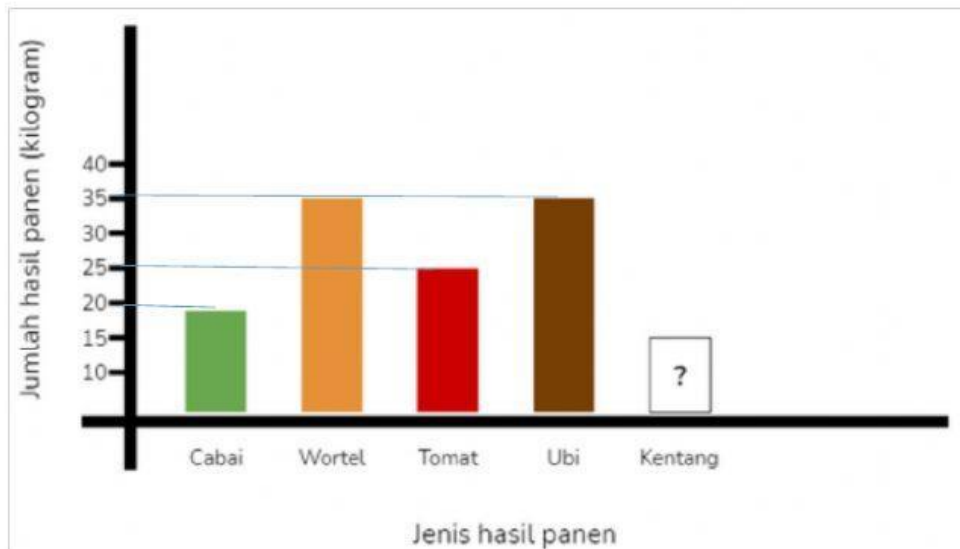
Jawablah pertanyaan berdasarkan data Penduduk Indonesia Menurut Pulau Hasil SP2020 pada diagram batang tersebut dengan menarik garis dari soal ke jawaban yang benar!

- Pulau dengan penduduk terbanyak.
- Pulau dengan penduduk paling sedikit.
- Pulau dengan jumlah penduduk 15 juta jiwa.
- Pulau dengan jumlah penduduk 58,6 juta jiwa.

Sumatera
Bali – Nusa Tenggara
Jawa
Maluku _ Papua

3. Pak Ahmad seorang petani yang mempunyai lima jenis tanaman di kebunnya. Setiap pekan, Pak Ahmad memanen hasil kebunnya. Untuk pekan ini jumlah seluruh hasil panen adalah 150 kg. Hasil panen kebun pak Ahmad disajikan pada diagram batang berikut.

Data Hasil Panen



Jawablah pertanyaan berdasarkan data Hasil Panen pada diagram batang tersebut dengan *memilih jawaban yang sesuai!*

- Jumlah hasil panen kentang.
- Jumlah hasil panen wortel dan ubi.
- Selisih hasil panen kentang dan cabai.

