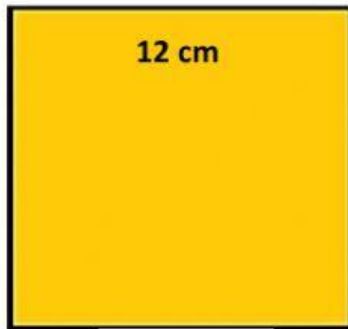


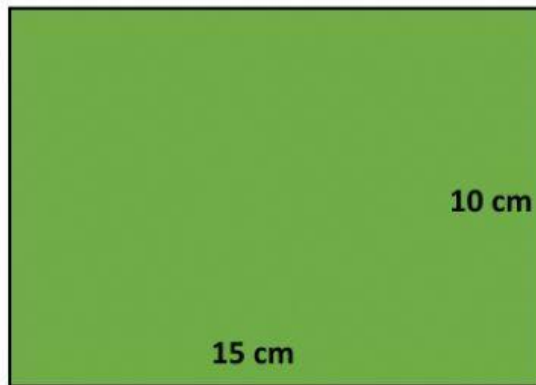
PERÍMETRO Y ÁREA DE POLÍGONOS EJERCICIO

INDICACIONES: Encuentra los perímetros y áreas de las siguientes figuras. Arrastra el recuadro de la parte inferior que contenga el valor correcto.



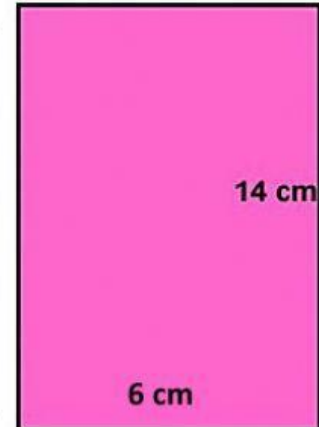
Perímetro: _____ cm

Área: _____ cm^2



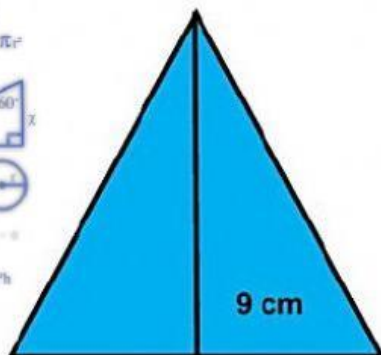

Perímetro: _____ cm

Área: _____ cm^2



Perímetro: _____ cm

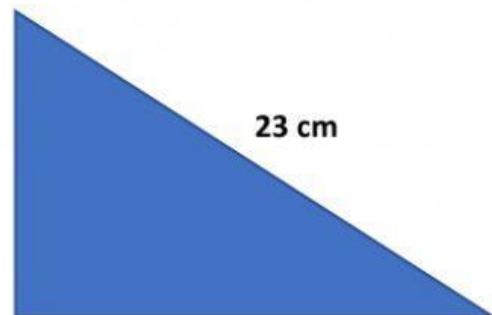
Área: _____ cm^2



11 cm

Perímetro: _____ cm

Área: _____ cm^2



11 cm

23 cm

18 cm

Perímetro: _____ cm

Área: _____ cm^2

48

50

33

40

52

49.5

84

150

99

144