

**BÀI
32**

**PHÉP TRỪ SỐ CÓ HAI CHỮ SỐ
CHO SỐ CÓ HAI CHỮ SỐ**

Tiết 3

1 Đặt tính rồi tính.

a)

$32 + 15$

.....
.....
.....

$47 - 15$

.....
.....
.....

$47 - 32$

.....
.....
.....

$35 + 12$

.....
.....
.....

b)

$43 + 26$

.....
.....
.....

$69 - 43$

.....
.....
.....



$69 - 26$

.....
.....
.....

$46 + 23$

.....
.....
.....

Bài 2: Viết kết quả cho phép tính ở mỗi bông hoa và chọn bông hoa ghi phép tính có kết quả lớn nhất.



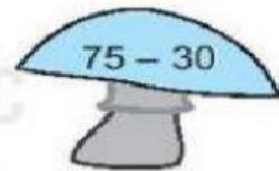
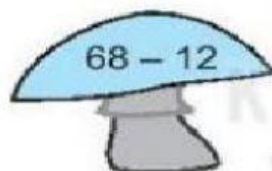
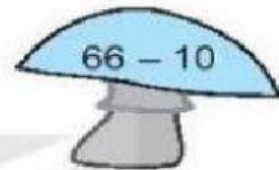
3 ✎ Viết phép tính thích hợp.

Một đồng gạch có 95 viên. Bác thợ xây đã lấy đi một số viên gạch để xây tường. Tính ra còn lại 45 viên. Hỏi bác thợ đó đã lấy đi bao nhiêu viên gạch để xây tường?

--	--	--	--	--

4 ✎ Nắm được cho vào giỏ khi kết quả phép tính ở nấm là số ghi trên giỏ đó.

a) Nối mỗi cây nấm với giỏ thích hợp.



b) Đúng ghi Đ, sai ghi S.

Những giỏ có hai cây nắm là giỏ ghi số:

• 23; 34; 56

• 23; 45; 56