

 Segna con una **X** la risposta giusta.

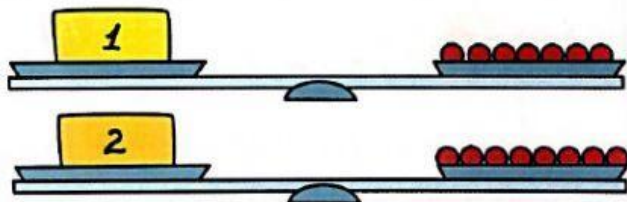
La lunghezza

- ① Aldo misura a passi la lunghezza della sua aula, la 2^a C.
Quanti passi compie, secondo te?

- ☐ 2 passi.
☐ 14 passi.
☐ 100 passi.

Il peso

- ② Osserva i piatti della bilancia.
Quale oggetto pesa di più?



- ☐ Hanno lo stesso peso.
☐ La scatola n. 1.
☐ La scatola n. 2.

La capacità


- ③ Quante bottiglie d'acqua occorrono per riempire una tanica? Osserva.



- ☐ 3 ☐ 2 ☐ 4

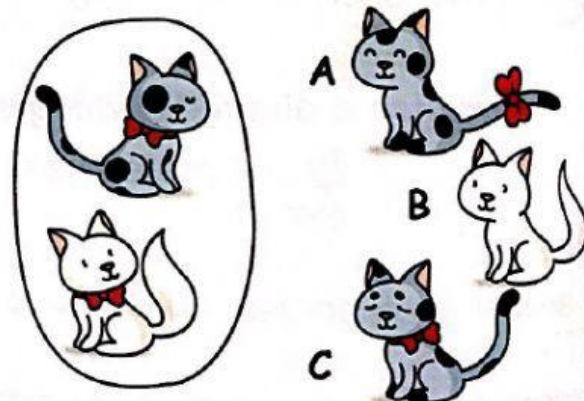
La moneta

- ④ Quale borsellino contiene 1 euro?



Relazioni

- ⑤ Quale gatta può entrare nel gruppo?



- ☐ A ☐ B ☐ C

- ⑥ Osserva. Puoi comperare la brioche e il bignè?



- ☐ Certo. ☐ Possibile. ☐ Impossibile.