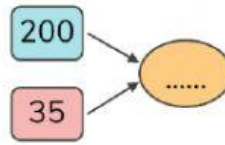


PHÉP CỘNG TRONG PHẠM VI 1000 (không nhớ)

BÀI TẬP TỰ LUYỆN

- Tính nhẩm: $500 + 400 = \dots\dots$
- Kết quả của phép cộng $145 + 123$ là: $\dots\dots$
- Viết số thích hợp vào ô trống.



- Những phép tính nào có kết quả bằng **150** ?

$100 + 5.$

$50 + 150.$

$20 + 130.$

$90 + 60.$

- Phép tính $123 + 456$ có kết quả bằng với kết quả của phép tính dưới đây ?

A. $153 + 416.$

B. $226 + 353.$

C. $123 + 465.$

D. $456 + 132.$

- Những phép tính nào có kết quả lớn hơn **585** ?

$500 + 95.$

$320 + 260.$

$150 + 408.$

$155 + 444.$

- Sư tử nặng 132 kg. Hổ nặng hơn sư tử 34 kg.

Viết phép tính tìm cân nặng của Hổ.

.....

- Tàu thứ nhất chở 240 thùng hàng. Tàu thứ hai chở 350 thùng hàng.

Số thùng hàng cả hai tàu chở là:

A. 500 thùng hàng. B. 360 thùng hàng. C. 560 thùng hàng. D. 590 thùng hàng.

- Một tam giác có độ dài 3 cạnh lần lượt là: 102 cm, 135 cm, 145 cm.

Tổng độ dài 3 cạnh của tam giác là:

10. Hai số có tổng bằng 505 đơn vị. Nếu tăng số hạng thứ nhất lên 72 đơn vị và giữ nguyên số hạng thứ hai thì tổng mới là:

Phần tự luận

1. Tính nhẩm:

$200 + 300 = \square$

$400 + 100 = \square$

$500 + 350 = \square$

$800 + 190 = \square$

$147 + 400 = \square$

$250 + 700 = \square$

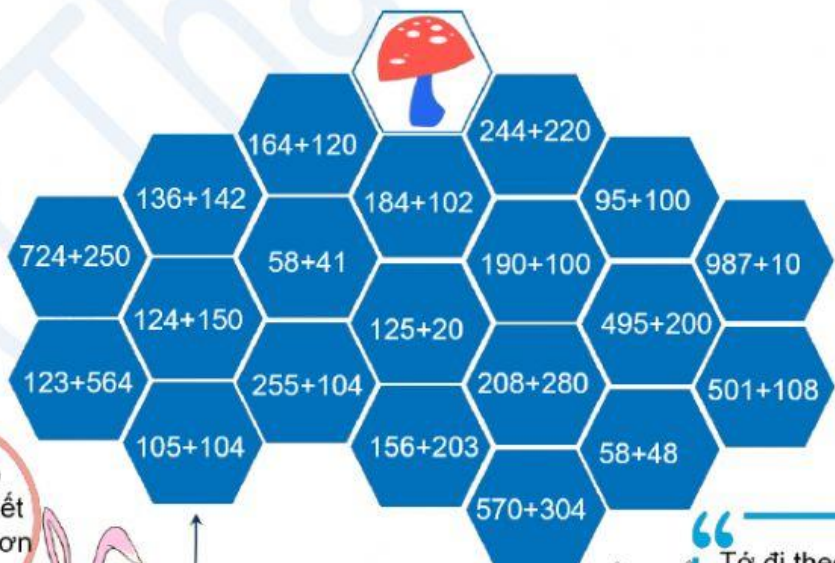
$600 + 360 = \square$

$900 + 89 = \square$

2. Đặt tính rồi tính.

$246 + 343$	$621 + 58$	$181 + 607$	$623 + 333$
.....
.....
.....

3. Chú thỏ nào hái được nấm ?



The grid contains the following math problems:

- Top row: $164 + 120$, $244 + 220$
- Second row: $136 + 142$, $184 + 102$, $95 + 100$
- Third row: $724 + 250$, $58 + 41$, $190 + 100$, $987 + 10$
- Fourth row: $124 + 150$, $125 + 20$, $495 + 200$
- Fifth row: $123 + 564$, $255 + 104$, $208 + 280$, $501 + 108$
- Sixth row: $105 + 104$, $156 + 203$, $58 + 48$
- Bottom row: $570 + 304$

A pink rabbit on the left has a speech bubble: "Tớ đi theo các ô có kết quả nhỏ hơn 300".

A blue rabbit on the right has a speech bubble: "Tớ đi theo các ô có kết quả lớn hơn 300".

A mushroom is at the top center of the grid.

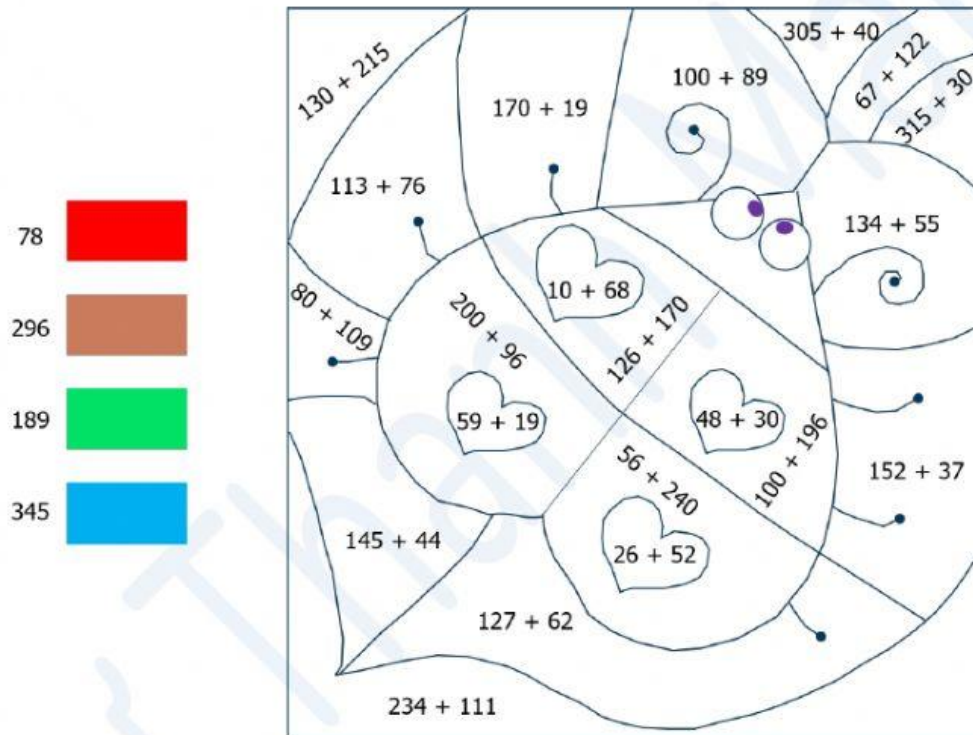
4. Em hãy tìm kết quả của các phép tính trong bức tranh và tô màu chúng theo bảng màu phía dưới.

Các phép tính có tổng bằng **78** tô màu **đỏ**.

Các phép tính có tổng bằng **296** tô màu **nâu**.

Các phép tính có tổng bằng **189** tô màu **xanh lá**.

Các phép tính có tổng bằng **345** tô màu **xanh dương**.



78	
296	
189	
345	

Math problems on the butterfly wings:

- $130 + 215$
- $170 + 19$
- $305 + 40$
- $100 + 89$
- $67 + 122$
- $315 + 30$
- $113 + 76$
- $80 + 109$
- $200 + 96$
- $10 + 68$
- $126 + 170$
- $134 + 55$
- $59 + 19$
- $48 + 30$
- $56 + 240$
- $100 + 196$
- $152 + 37$
- $145 + 44$
- $26 + 52$
- $127 + 62$
- $234 + 111$

5. Ngày thứ 7, trung tâm học liệu Xuân Phương đón 282 người đọc. Chủ nhật, trung tâm đón 506 người đọc. Hỏi trong 2 ngày đó trung tâm đón bao nhiêu người đọc ?

.....

.....

.....