



ACTIVIDADES FINALES CCSS – UNIDAD 6.

EL PASO DEL TIEMPO.

2º Educación Primaria.

1. Arrastra cada imagen según corresponda.



Pasado

Presente

Futuro

2. Lee y une según corresponda.

Presente



Cuando sea mayor
quiero ser bombera.



Después



Futuro



Las navidades
pasadas estuve en
París.



Antes



Pasado



Ahora estoy viviendo
en la calle Pez.



Ahora



3. Ordena las actividades diarias de la niña escribiendo números del 1 al 8 desde que se levanta hasta que se acuesta.

Mis abuelos nos vienen a buscar al colegio y comemos en su casa.

Antes de cenar me ducho y me pongo el pijama.

Me levanto todos los días a las 8 para ir al colegio.

Al salir del colegio por la tarde, voy a natación y mi hermano a baile.

Mi mamá nos lleva a los dos al colegio.

Cenamos todos juntos en familia.

Después de cenar me lavo los dientes y me voy a la cama.

Desayuno con mi hermano.













4. Completa el texto con las palabras que faltan.

Un año tiene meses y 365 .

Cada mes tiene 4 o 5 .

Una semana tiene días.

5. Observa la imagen del calendario y contesta a las preguntas.

ENERO  L M Mi J V S D 1 2 3 4 5 6 7 8 9 10 11 12 13 14 15 16 17 18 19 20 21 22 23 24 25 26 27 28 29 30 31	FEBRERO  L M Mi J V S D 1 2 3 4 5 6 7 8 9 10 11 12 13 14 15 16 17 18 19 20 21 22 23 24 25 26 27 28	MARZO  L M Mi J V S D 1 2 3 4 5 6 7 8 9 10 11 12 13 14 15 16 17 18 19 20 21 22 23 24 25 26 27 28 29 30 31	ABRIL  L M Mi J V S D 1 2 3 4 5 6 7 8 9 10 11 12 13 14 15 16 17 18 19 20 21 22 23 24 25 26 27 28 29 30	MAYO  L M Mi J V S D 1 2 3 4 5 6 7 8 9 10 11 12 13 14 15 16 17 18 19 20 21 22 23 24 25 26 27 28 29 30 31	JUNIO  L M Mi J V S D 1 2 3 4 5 6 7 8 9 10 11 12 13 14 15 16 17 18 19 20 21 22 23 24 25 26 27 28 29 30
JULIO  L M Mi J V S D 1 2 3 4 5 6 7 8 9 10 11 12 13 14 15 16 17 18 19 20 21 22 23 24 25 26 27 28 29 30 31	AGOSTO  L M Mi J V S D 1 2 3 4 5 6 7 8 9 10 11 12 13 14 15 16 17 18 19 20 21 22 23 24 25 26 27 28 29 30 31	SEPTIEMBRE  L M Mi J V S D 1 2 3 4 5 6 7 8 9 10 11 12 13 14 15 16 17 18 19 20 21 22 23 24 25 26 27 28 29 30	OCTUBRE  L M Mi J V S D 1 2 3 4 5 6 7 8 9 10 11 12 13 14 15 16 17 18 19 20 21 22 23 24 25 26 27 28 29 30 31	NOVIEMBRE  L M Mi J V S D 1 2 3 4 5 6 7 8 9 10 11 12 13 14 15 16 17 18 19 20 21 22 23 24 25 26 27 28 29 30	DICIEMBRE  L M Mi J V S D 1 2 3 4 5 6 7 8 9 10 11 12 13 14 15 16 17 18 19 20 21 22 23 24 25 26 27 28 29 30 31

1. ¿Qué día es el 15 de febrero?

- ☐ Lunes
- ☐ Miércoles
- ☐ Viernes
- ☐ Domingo

2. ¿Cuántas semanas tiene el mes de mayo?

- ☐ 3
- ☐ 4
- ☐ 5
- ☐ 6

3. ¿Cuántos días tiene el mes de agosto?

- ☐ **28**
- ☐ **30**
- ☐ **31**

4. ¿Cuál es el segundo mes del año?

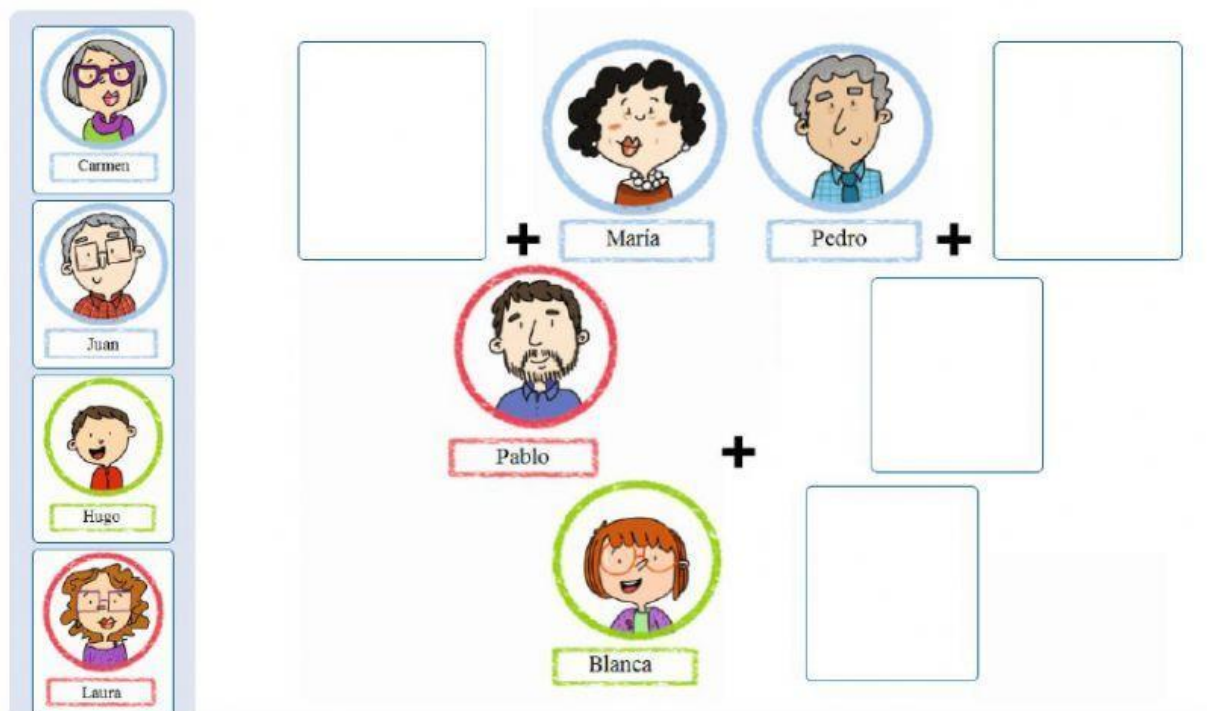
- ☐ **Marzo**
- ☐ **Febrero**
- ☐ **Enero**
- ☐ **Abril**

5. ¿Cuál es el último mes del año?


- ☐ **Diciembre**
- ☐ **Octubre**
- ☐ **Septiembre**
- ☐ **Noviembre**

6. Completa el árbol genealógico teniendo en cuenta las indicaciones.

Arrastra las imágenes para completar el árbol sabiendo que Carmen y Juan son abuelos de Blanca, Laura es su madre y Hugo es su hermano.



7. Arrastra las imágenes para ordenar la línea temporal.



8. Haz clic en las imágenes que pertenecen al pasado.



9. Responde si estas frases son verdaderas o falsas.

Es importante cuidar y conservar los restos del pasado.

Verdadero

Falso

Los objetos antiguos nos permiten saber cómo se vivirá en el futuro.

Verdadero

Falso

Los objetos y las costumbres no cambian con el paso del tiempo.

Verdadero

Falso

No se deben tocar las pinturas, esculturas y objetos que hay en los museos.

Verdadero

Falso