






Name: \_\_\_\_\_ Date: \_\_\_\_\_

Write (✍) the subtraction sentence for each number story.

	<input type="text"/>	-	<input type="text"/>	=	<input type="text"/>
	<input type="text"/>	-	<input type="text"/>	=	<input type="text"/>
	<input type="text"/>	-	<input type="text"/>	=	<input type="text"/>
	<input type="text"/>	-	<input type="text"/>	=	<input type="text"/>
	<input type="text"/>	-	<input type="text"/>	=	<input type="text"/>