




AGGIUNGI 


TOGLI 

SCRIVI L'OPERAZIONE




CI SONO TRE BALENE E QUATTRO PESCI.
QUANTI SONO GLI ANIMALI?

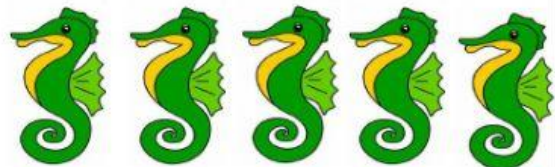
$$3 + 4 = 7$$



CI SONO QUATTRO PESCI E DUE DELFINI.
QUANTI ANIMALI IN TUTTO?




CI SONO QUATTRO PESCI BLU E QUATTRO PESCI GIALLI.
QUANTI PESCI IN TUTTO?




CI SONO CINQUE CAVALLUCCI.
DUE VANNO VIA.
QUANTI CAVALLUCCI RESTANO?

$$5 - 2 = 3$$



CI SONO NOVE PESCI.
TRE VENGONO PESCATI.
QUANTI PESCI RESTANO?



CI SONO OTTO POLIPI.
CINQUE SCAPPANO.
QUANTI POLIPI RIMANGONO?