

Toán:**Phép cộng trong phạm vi 1000**

Bài 1: Đúng hay sai?


a.
$$\begin{array}{r} 254 \\ + 7 \\ \hline 251 \end{array}$$


b.
$$\begin{array}{r} 17 \\ + 347 \\ \hline 417 \end{array}$$

c.
$$\begin{array}{r} 568 \\ + 22 \\ \hline 580 \end{array}$$

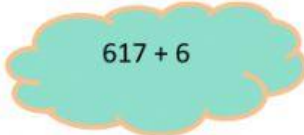
d.
$$\begin{array}{r} 9 \\ + 237 \\ \hline 327 \end{array}$$

Bài 2: Nối phép tính với kết quả:

 $475 + 149$


 $347 + 278$

 $589 + 37$


 $617 + 6$





Bài 3: Nối hai phép tính có cùng kết quả


 $166 + 269$


 $256 + 167$


 $365 + 68$

 $261 + 173$

 $156 + 277$

 $229 + 206$

 $216 + 218$

 $424 + 8$

Bài 4: Nối ô trống với số thích hợp

$$287 + \square > 322$$

$$358 + \square < 395$$

32

33

34

35

36

37

38

Bài 5: Viết số thích hợp vào ô trống

