



Lembar Kerja Peserta Didik

MATEMATIKA PECAHAN

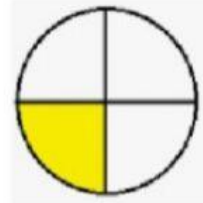


Nama :

Kelas :

Cocokkan gambar pecahan dibawah ini dengan menarik garis pada angka pecahan yang benar !

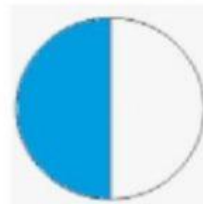
1. $\frac{1}{2}$



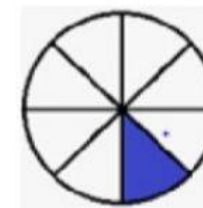
2. $\frac{1}{3}$



3. $\frac{1}{4}$



4. $\frac{1}{6}$



5. $\frac{1}{8}$

