


## CHIA CHO 5

### BÀI TẬP TỰ LUYỆN

1. Em đếm được 15 ngón tay thì có bao nhiêu bàn tay ?

- A. 5 bàn tay.      B. 4 bàn tay.      C. 3 bàn tay.      D. 2 bàn tay.

2. Xếp 5 quả táo vào trong 1 hộp. Có 20 quả táo thì cần ..... hộp như vậy.



3. Đánh dấu X vào phép tính có kết quả bằng 7.

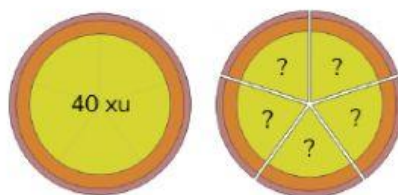
- $15 : 5.$         $30 : 5.$         $28 : 4.$         $35 : 5.$

4. Một thùng rượu nho đang đựng 10 lít rượu. Số rượu này được hãm đong vào 5 thùng nhỏ giống nhau. Hỏi mỗi thùng nhỏ đựng được bao nhiêu lít rượu ?



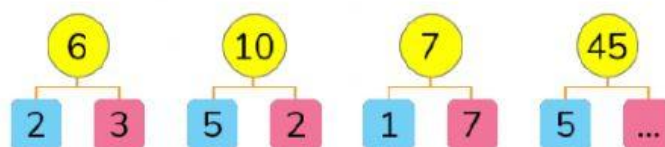
Trả lời: .....

5. Một cái bánh gato được bán với giá 40 xu. Người thợ làm bánh cắt chiếc bánh thành 5 miếng nhỏ bằng nhau. Hỏi mỗi miếng bánh nên bán với mức giá thấp nhất là bao nhiêu xu để số tiền thu được bằng hoặc nhiều hơn so với bán cả cái bánh nguyên ?



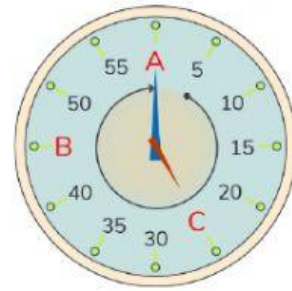
- A. 5 xu.      B. 6 xu.      C. 7 xu.      D. 8 xu.

6. Viết số thích hợp vào chỗ trống.



7. Chọn 3 số thích hợp thay cho chữ A, B, C.

- A. A = 60; B = 40; C = 20.
- B. A = 60; B = 45; C = 25.
- C. A = 60; B = 45; C = 30.
- D. A = 60; B = 50; C = 40.

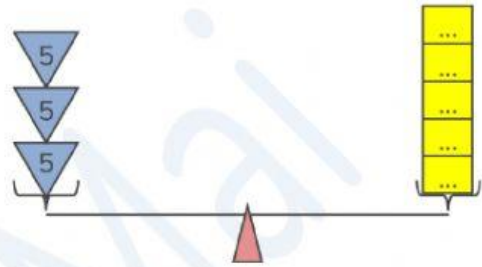


8. Viết số thích hợp vào ô trống để cân thăng bằng.

Biết ô giống nhau thì số giống nhau.

9. Khay trứng có 30 quả được xếp đều vào 5 hàng.

Mỗi hàng có bao nhiêu quả trứng ?



Viết phép tính để giải bài toán trên.

.....

10. 5 xu mua được 2 cái kẹo



50 xu mua được ..... cái kẹo.

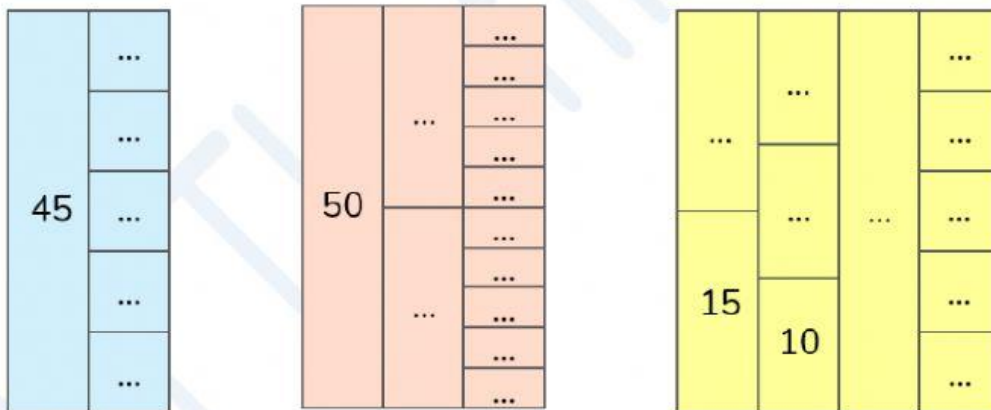


**Phần tự luận:**

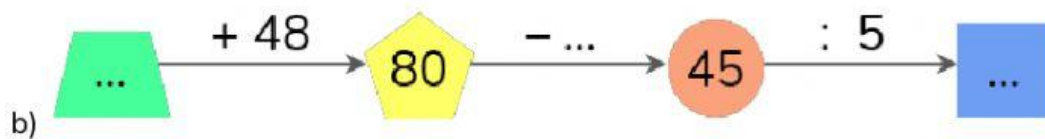
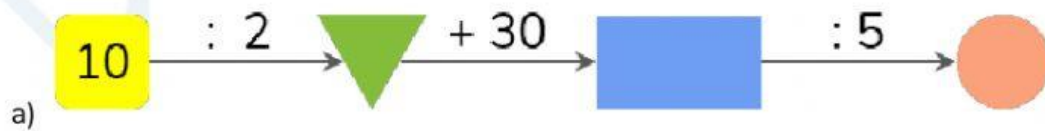
1. Mỗi mỗi câu dùng để câu một chú cá. Chú cá bị câu bởi mỗi câu ghi kết quả của phép tính ghi bên mình.



2. Viết số thích hợp vào chỗ trống, biết ô giống nhau thì số giống nhau.



3. Viết số thích hợp vào chỗ trống.



4. Viết phép tính thích hợp để tìm câu trả lời cho mỗi câu hỏi sau:



Có 30 ngôi sao trong hình trên.

a) Xếp 5 ngôi sao thành 1 nhóm, em có bao nhiêu nhóm 5 ngôi sao ?

.....

b) Xếp 10 ngôi sao thành 1 nhóm, em có bao nhiêu nhóm 10 ngôi sao ?

.....

c) Xếp 3 ngôi sao thành 1 nhóm, em có bao nhiêu nhóm 3 ngôi sao ?

.....

d) Xếp 6 ngôi sao thành 1 nhóm, em có bao nhiêu nhóm 6 ngôi sao ?

.....

5. Một xe ô tô có 4 bánh và được lắp thêm 1 bánh dự phòng. Có 25 bánh xe thì đủ lắp cho bao nhiêu xe ô tô như vậy ?

.....

.....

.....