





# Додавання та віднімання числа 1

1. Обчисли «чарівні» ланцюжки.



2. Обчисли.

$$31 + 1 = \square \square \quad 67 - 1 = \square \quad 96 + 1 + 1 = \square \square$$

$$88 - 1 = \square \square \quad 60 + 1 = \square \quad 52 - 1 - 1 = \square \square$$

3. Заповни порожні клітинки.

49  $\xrightarrow{\quad}$   $\square \square$        $\square \square \xleftarrow{\quad}$  27

$\square \square \xleftarrow{\quad}$  80      71  $\xrightarrow{\quad}$   $\square \square$

4. На полиці було 20 книжок. Іван узяв почитати одну з книжок. Скільки книжок залишилося на полиці?

Розв'язання:  $\square \square \square \square \square \square \square \square$  (кн.)

Відповідь:  $\square \square$  книжок.

5\*. Скільки онуків у бабусі, якщо вона зв'язала 4 шапки й дов'язує восьму рукавицю?

Відповідь:  $\square$  онуків.



## Порозрядне додавання та віднімання двоцифрових чисел

1. З'єднай числові вирази, які мають однакові значення.

$17 + 1$

$84 - 1$

$40 + 1$

$66 + 0$

$38 - 1$

$42 - 1$

$67 - 1$

$19 - 1$

$83 + 0$

$36 + 1$

2. Розклади числа на суму розрядних доданків.

$29 = \square\square + \square \quad 72 = \square\square + \square \quad 16 = \square\square + \square$

3. До кожного виразу на додавання склади два вирази на віднімання.

$50 + 7 = 57$

$20 + 8 = \square\square$

$60 + 3 = \square\square$

$57 - 50 = \square$

$\square\square - \square\square = \square$

$\square\square - \square\square = \square$

$57 - 7 = \square\square$

$\square\square - \square = \square\square$

$\square\square - \square = \square\square$

4. Обчисли.

$25 - 20 = \square$

$36 - 6 = \square\square$


$52 - 50 + 3 = \square$

$40 + 6 = \square\square$

$60 + 1 = \square\square$

$80 + 5 + 3 = \square\square$

5\*. Склади задачу за малюнком. Розв'яжи її.



Відповідь:  $\square$  кг.