

LKPD

Nama:

Kelas:

Isilah jawaban di bawah ini dengan benar!



Kegiatan dimulai pukul 07.00
Kegiatan berakhir pukul 09.00

Lama waktu kegiatan selama

.... jam = menit



Kegiatan dimulai pukul 13.00
Kegiatan berakhir pukul 14.00

Lama waktu kegiatan selama


.... jam = menit



Kegiatan dimulai pukul 12.00
Kegiatan berakhir pukul 14.00


Lama waktu kegiatan selama

.... jam = menit




Kegiatan dimulai pukul 10.30
Kegiatan berakhir pukul 11.00

Lama waktu kegiatan selama



Kegiatan dimulai pukul 12.15
Kegiatan berakhir pukul 14.00

Lama waktu kegiatan selama



Kegiatan dimulai pukul 16.45
Kegiatan berakhir pukul 17.00

Lama waktu kegiatan selama

BACK TO

SCHOOL

LIVEWORKSHEETS