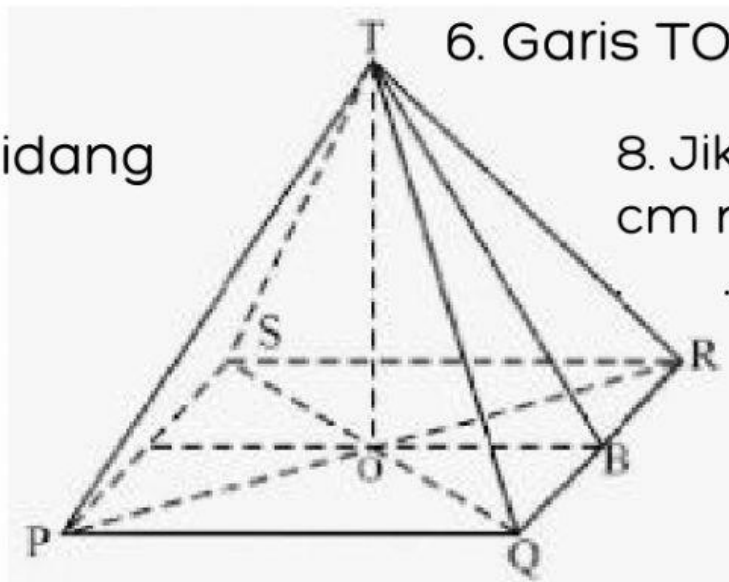


UNSUR LIMAS



Perhatikan gambar limas persegi dibawah ini



7. Contoh bidang tegak

6. Garis TO disebut

8. Jika panjang $PQ=24$ cm maka Panjang OB cm.

1. Memiliki buah rusuk .
2. Memiliki buah bidang tegak .
3. Memiliki buah bidang.
4. Memiliki buah titik sudut.
5. Garis TB disebut

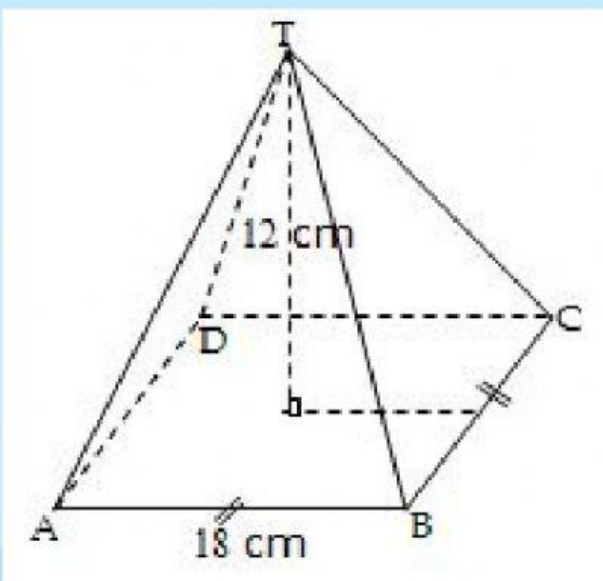


LUAS & VOLUME LIMAS

Jawablah pertanyaan dibawah ini

9. Alas sebuah limas berbentuk persegi dengan panjang sisi 12 cm. Bila tinggi limas 9 cm, volum limas adalah ...

10. Perhatikan gambar di bawah! Luas permukaan bangun tersebut adalah ...





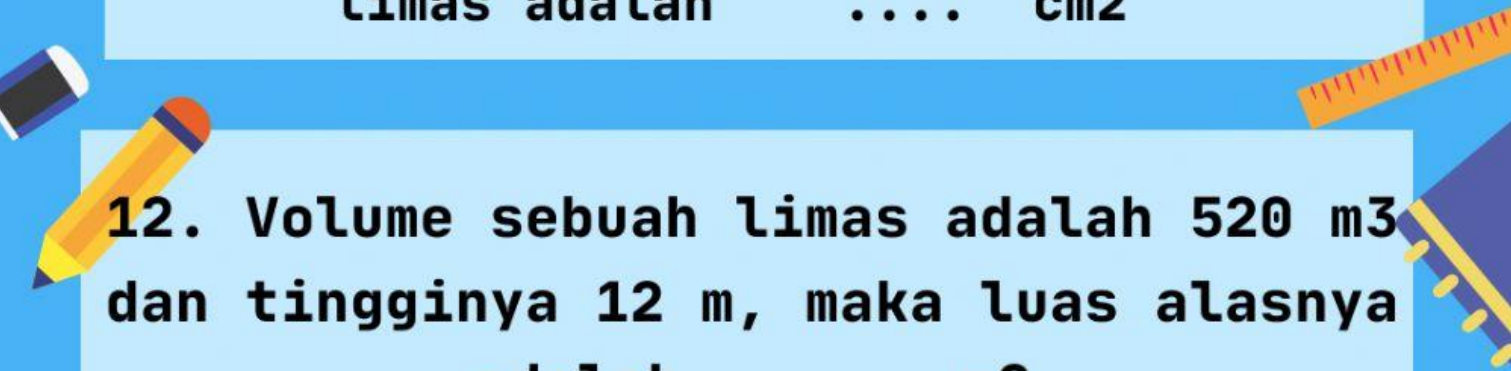
LUAS & VOLUME LIMAS



Jawablah pertanyaan dibawah ini

11. Sebuah limas mempunyai alas berbentuk persegi.

Keliling alas limas 96 cm, sedangkan tingginya 16 cm. Luas seluruh permukaan limas adalah cm²



12. Volume sebuah limas adalah 520 m³ dan tingginya 12 m, maka luas alasnya adalah m²