


CLASIFICACIÓN DE CUADRILÁTEROS

Relaciona cada cuadrilátero con su nombre














TRAPEZOIDE

TRAPECIO

CUADRADO

RECTÁNGULO

ROMBO

ROMBOIDE

Escribe el nombre de los siguientes cuadriláteros y después contesta. **No olvides las tildes. Escribe en minúscula**

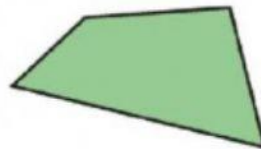












¿Cuáles tienen sus lados paralelos dos a dos?

 - - - -

¿Cuáles no tienen ningún lado paralelo?

¿Cuáles tienen todos los ángulos iguales?