

## El doble , el triple y el cuádruple



Rosa



Laura



\* ¿Cuál es el doble de la cantidad que tiene Rosa ?

a) 18 caramelos

b) 12 caramelos

c) 24 caramelos

\* ¿Cuál es el doble de la cantidad que tiene Laura ?

a) 12 caramelos

b) 16 caramelos

c) 8 caramelos



**Pepe**



\* ¿Cuál es el triple de la cantidad que tiene Pepe ?

a) 18 carritos

b) 12 carritos

c) 24 carritos



**Tito**



\* ¿Cuál es el triple de la cantidad que tiene Tito ?


a) 18 carritos

b) 12 carritos


c) 24 carritos



**María**



**Luis**



\* ¿Cuál es el cuádruple de la cantidad que tiene María ?

a) 12 manzanas

b) 18 manzanas

c) 24 manzanas

\* ¿Cuál es el cuádruple de la cantidad que tiene Luis ?

a) 10 manzanas

b) 20 manzanas

c) 15 manzanas

Relaciona :

**El doble**

2

3

4

5

1

8

7

8

10


4

6

16

14

2



**El triple**

2

3

4

5

1

8

7

9

12

6

3

21

15

24

Relaciona :

**El cuádruple**

2

3

4

5

1

8

7

12

16

8

4

20

28

32

