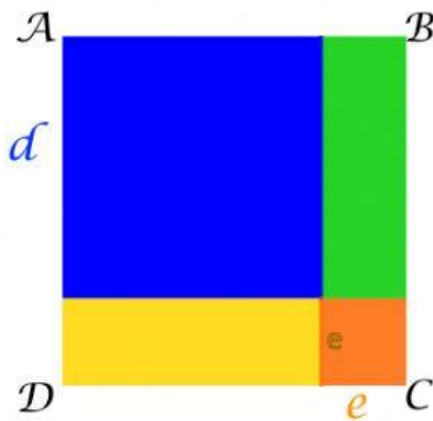
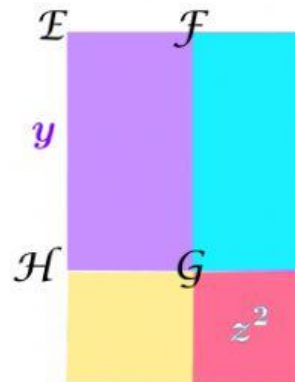


## Ficha de Autoevaluación 1


Observa con cuidado las figuras y escribe en los casilleros la expresión algebraica que consideras describe el área de cada una de las figuras.



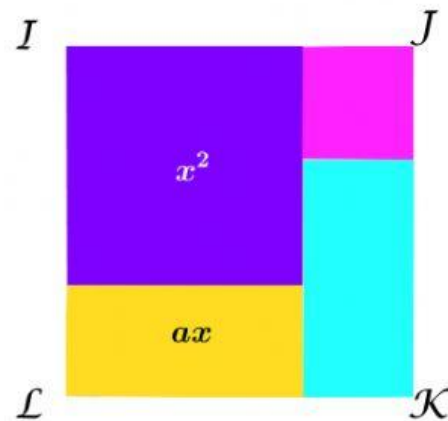
Área de  $ABCD =$



Área de  $EFGH =$



Área rayada =



Área de  $IJKL =$