


NAMA SISWA :

NO. ABSEN :

Perhatikan gambar di bawah.

Isilah titik-titik dengan jawaban yang benar.

1.



35 ekor ulat



15 ekor  
kupu-kupu



45 ekor ikan

Ada 35 ekor ulat, 15 ekor kupu-kupu, dan 45 ekor ikan.

Hewan yang paling banyak adalah ....

Hewan yang paling sedikit adalah ....

... lebih banyak dari ulat.

... lebih sedikit dari ulat.


Urutan hewan dari yang paling banyak adalah

... , ... , dan ...

Urutan hewan dari yang paling sedikit adalah

... , ... , dan ...

2.



34 ekor ayam



50 ekor bebek



6 ekor  
jerapah

Ada 34 ekor ayam, 50 ekor bebek, dan 6 ekor jerapah.

Hewan yang paling banyak adalah ...

Hewan yang paling sedikit adalah...

... lebih banyak dari ayam.

... lebih sedikit dari ayam.

Urutan hewan dari yang paling banyak adalah

... , ... , dan ...

Urutan hewan dari yang paling sedikit adalah


... , ... , dan ...



3.



15 ekor monyet



53 ekor kura-kura



16 ekor ular

Ada 15 ekor monyet, 53 ekor kura-kura, dan 16 ekor ular.

Hewan yang paling banyak adalah ....

Hewan yang paling sedikit adalah ....

... lebih banyak dari ular.

... lebih sedikit dari ular.

Urutan hewan dari yang paling banyak adalah

... , ... , dan ...

Urutan hewan dari yang paling sedikit adalah

... , ... , dan ...

82

70

64

67

73

85

79

88

76

91

Bilangan yang paling banyak adalah ...

Bilangan yang paling sedikit adalah...

Urutan bilangan dari yang paling banyak adalah

... , ... , dan ...

Urutan bilangan dari yang paling sedikit adalah

... , ... , dan ...